

Inhaltsverzeichnis

Deutschland

Karte Deutschland	5
Bilder Deutschland	6
Bundesländer mit Hauptstädten	7
Wichtige Städte	9
Flüsse und Seen	11
Gebirge	13
Industriezentren	15
Sehenswürdigkeiten	17

Europa

Karte Europa	19
Bilder Europa	20
Länder	21
Großräume und Meere	23
Flüsse	25
Gebirge und Inseln	27
Wichtige Städte	29
Sehenswürdigkeiten	31
Schweiz/Österreich	33
Frankreich	35
Skandinavien	37
Großbritannien	39
Spanien	41
Italien	43

Quiz

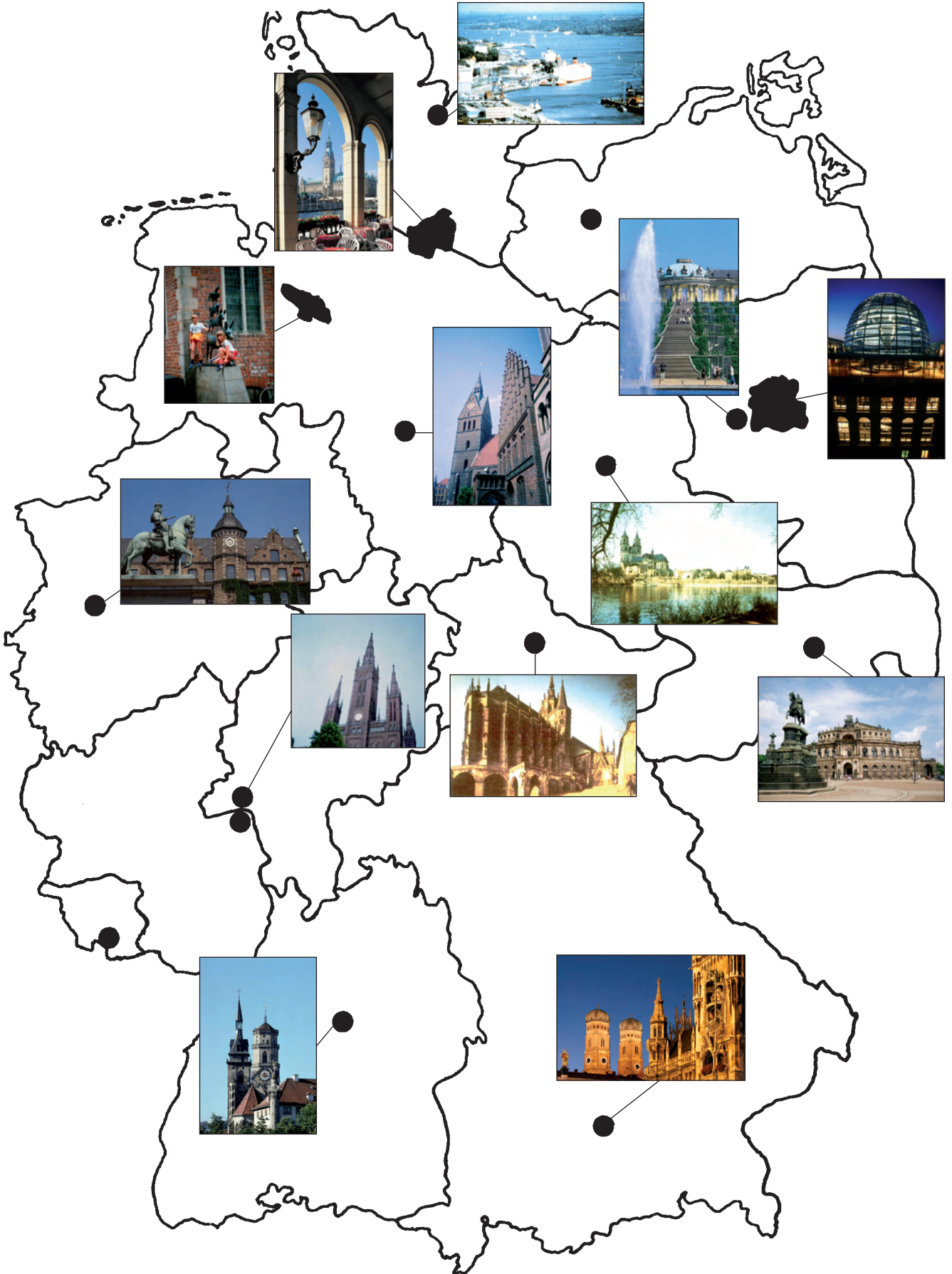
Was weißt du noch? (1)	45
Was weißt du noch? (2)	47

Geografie

Name:

Datum:

Deutschland: Bundesländer mit Hauptstädten



Geografie

Name:

Datum:

Deutschland: Bundesländer mit Hauptstädten

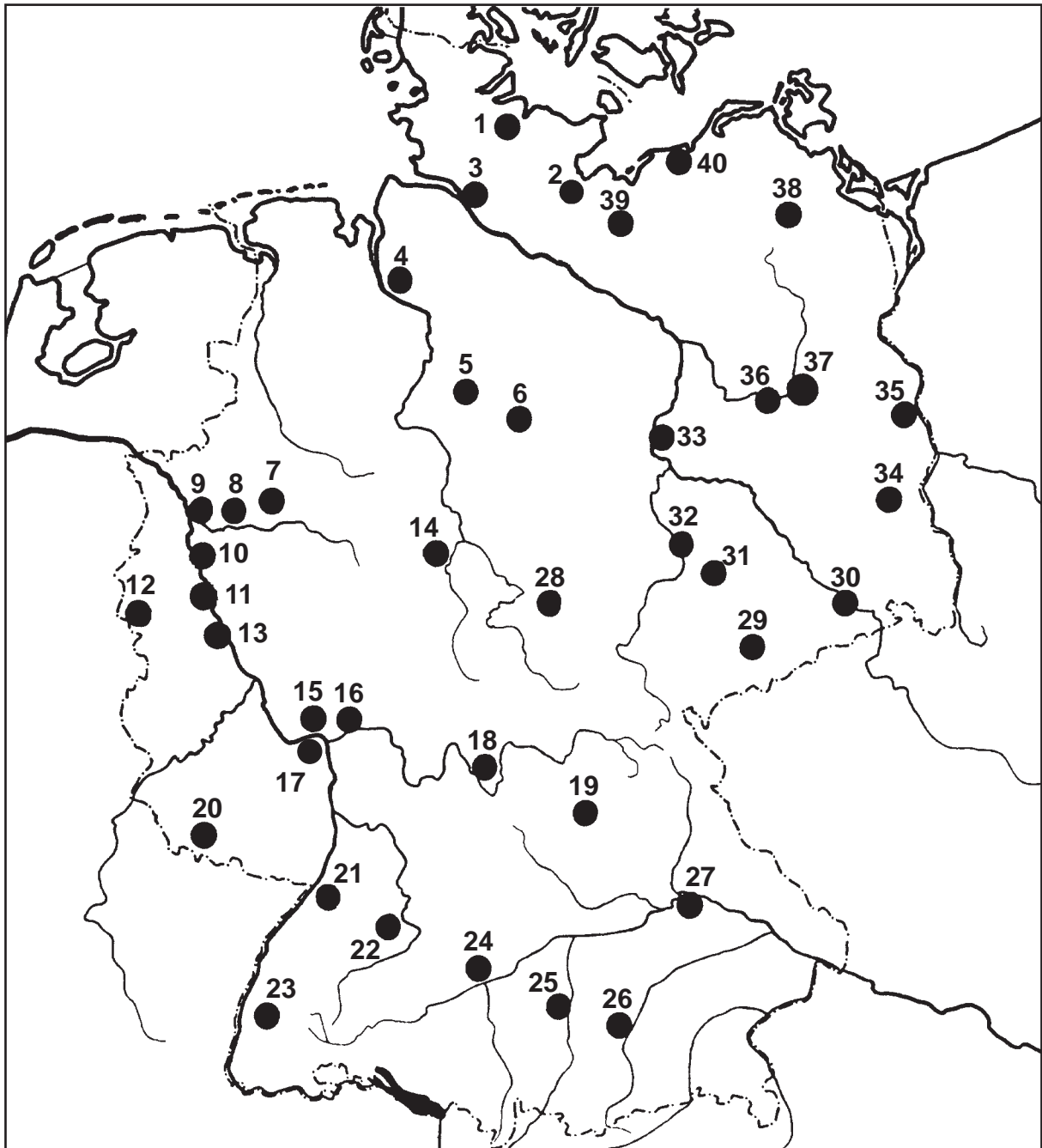


Geografie

Name: _____

Datum: _____

Deutschland: Wichtige Städte



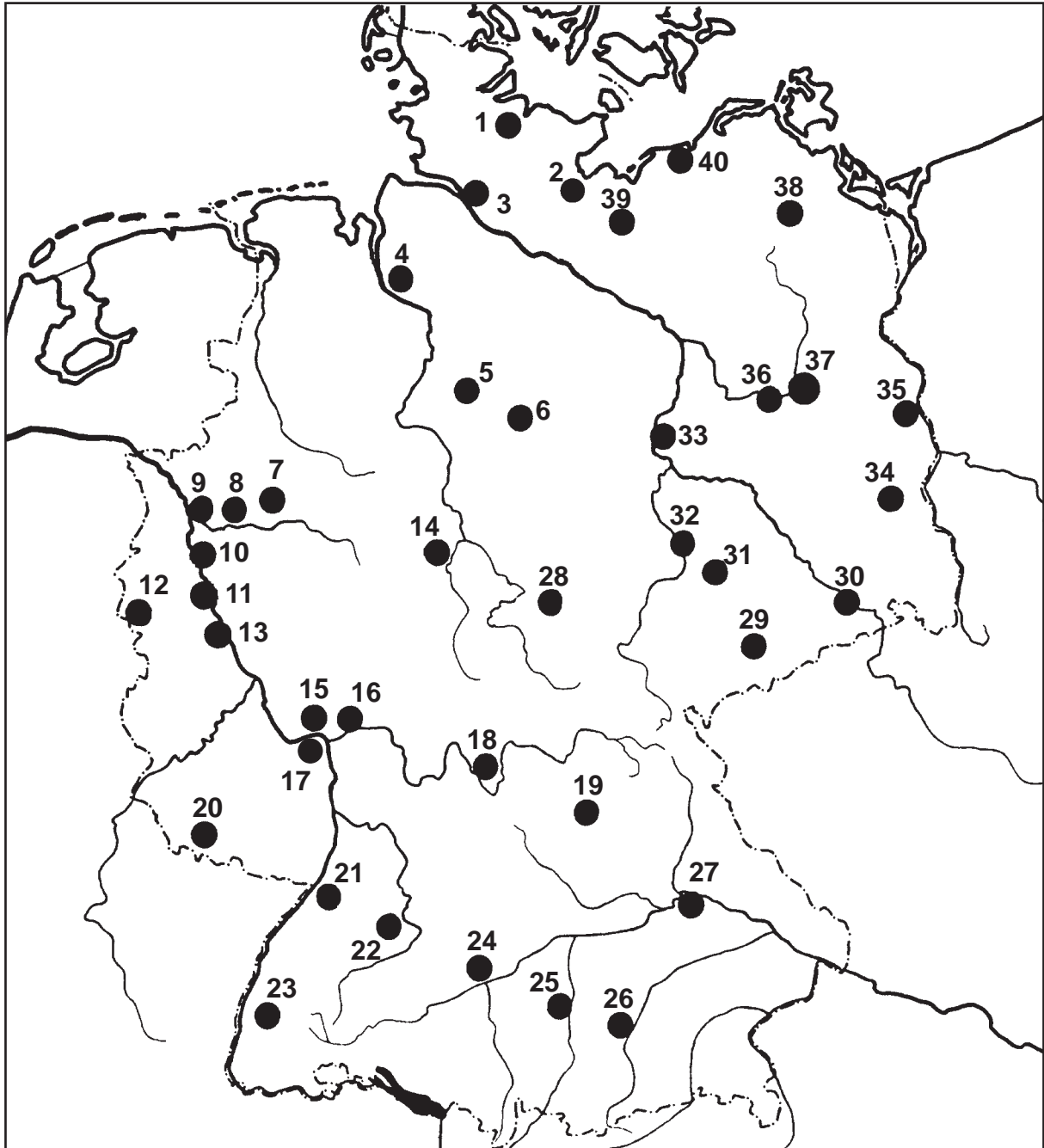
- | | | | |
|----------|----------|----------|----------|
| 1 _____ | 11 _____ | 21 _____ | 31 _____ |
| 2 _____ | 12 _____ | 22 _____ | 32 _____ |
| 3 _____ | 13 _____ | 23 _____ | 33 _____ |
| 4 _____ | 14 _____ | 24 _____ | 34 _____ |
| 5 _____ | 15 _____ | 25 _____ | 35 _____ |
| 6 _____ | 16 _____ | 26 _____ | 36 _____ |
| 7 _____ | 17 _____ | 27 _____ | 37 _____ |
| 8 _____ | 18 _____ | 28 _____ | 38 _____ |
| 9 _____ | 19 _____ | 29 _____ | 39 _____ |
| 10 _____ | 20 _____ | 30 _____ | 40 _____ |



Geografie

Name: _____

Datum: _____

Deutschland: Wichtige Städte

- | | | | |
|-----------------------|-------------------------|----------------------|--------------------------|
| 1 <u>Kiel</u> | 11 <u>Köln</u> | 21 <u>Karlsruhe</u> | 31 <u>Leipzig</u> |
| 2 <u>Lübeck</u> | 12 <u>Aachen</u> | 22 <u>Stuttgart</u> | 32 <u>Halle</u> |
| 3 <u>Hamburg</u> | 13 <u>Bonn</u> | 23 <u>Freiburg</u> | 33 <u>Magdeburg</u> |
| 4 <u>Bremen</u> | 14 <u>Kassel</u> | 24 <u>Ulm</u> | 34 <u>Cottbus</u> |
| 5 <u>Hannover</u> | 15 <u>Wiesbaden</u> | 25 <u>Augsburg</u> | 35 <u>Frankfurt/Oder</u> |
| 6 <u>Braunschweig</u> | 16 <u>Franfurt/Main</u> | 26 <u>München</u> | 36 <u>Potsdam</u> |
| 7 <u>Dortmund</u> | 17 <u>Mainz</u> | 27 <u>Regensburg</u> | 37 <u>Berlin</u> |
| 8 <u>Essen</u> | 18 <u>Würzburg</u> | 28 <u>Erfurt</u> | 38 <u>Neubrandenburg</u> |
| 9 <u>Duisburg</u> | 19 <u>Nürnberg</u> | 29 <u>Chemnitz</u> | 39 <u>Schwerin</u> |
| 10 <u>Düsseldorf</u> | 20 <u>Saarbrücken</u> | 30 <u>Dresden</u> | 40 <u>Rostock</u> |

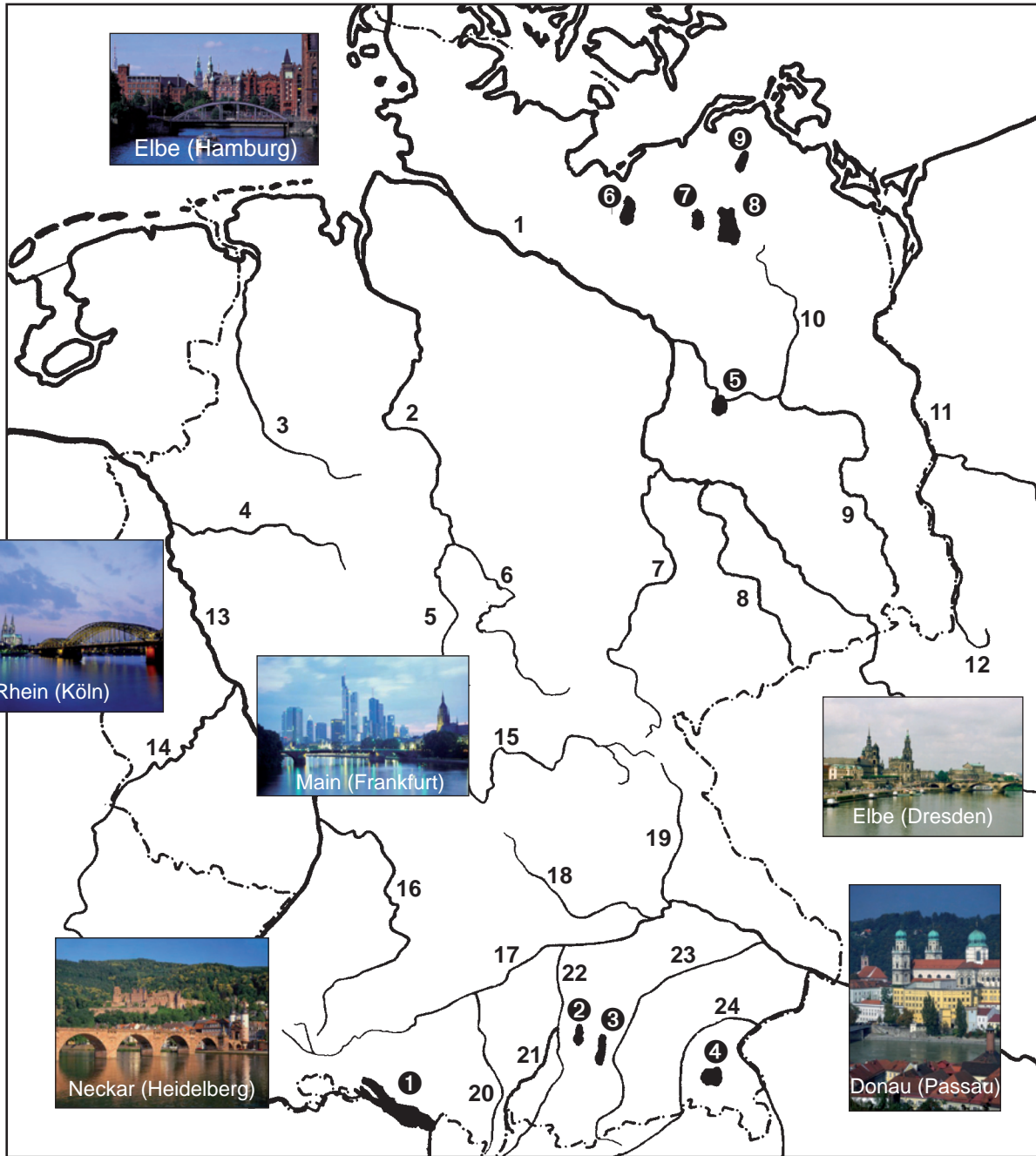


Geografie

Name:

Datum:

Deutschland: Flüsse und Seen



Flüsse (in km)

- | | |
|--------------------------|----------------------------|
| 1 <u>Elbe (1165/761)</u> | 11 <u>Oder (860)</u> |
| 2 <u>Weser (440)</u> | 12 <u>Neiße (256)</u> |
| 3 <u>Ems (371)</u> | 13 <u>Rhein (1320/865)</u> |
| 4 <u>Ruhr (235)</u> | 14 <u>Mosel (545)</u> |
| 5 <u>Fulda (218)</u> | 15 <u>Main (524)</u> |
| 6 <u>Werra (193)</u> | 16 <u>Neckar (367)</u> |
| 7 <u>Saale (427)</u> | 17 <u>Donau (2850/647)</u> |
| 8 <u>Mulde (252)</u> | 18 <u>Altmühl (220)</u> |
| 9 <u>Spree (398)</u> | 19 <u>Naab (188)</u> |
| 10 <u>Havel (337)</u> | 20 <u>Iller (147)</u> |

Seen (in km²)

- | |
|------------------------------|
| ① <u>Bodensee (538)</u> |
| ② <u>Ammersee (48)</u> |
| ③ <u>Starnberger S. (51)</u> |
| ④ <u>Chiemsee (82)</u> |
| ⑤ <u>Plauer See (32)</u> |
| ⑥ <u>Schweriner S. (66)</u> |
| ⑦ <u>Plauer See (39)</u> |
| ⑧ <u>Müritz (115)</u> |
| ⑨ <u>Kummerower S. (33)</u> |



Rhein (Bingen)




Geografie

Name: _____

Datum: _____

Deutschland: Gebirge



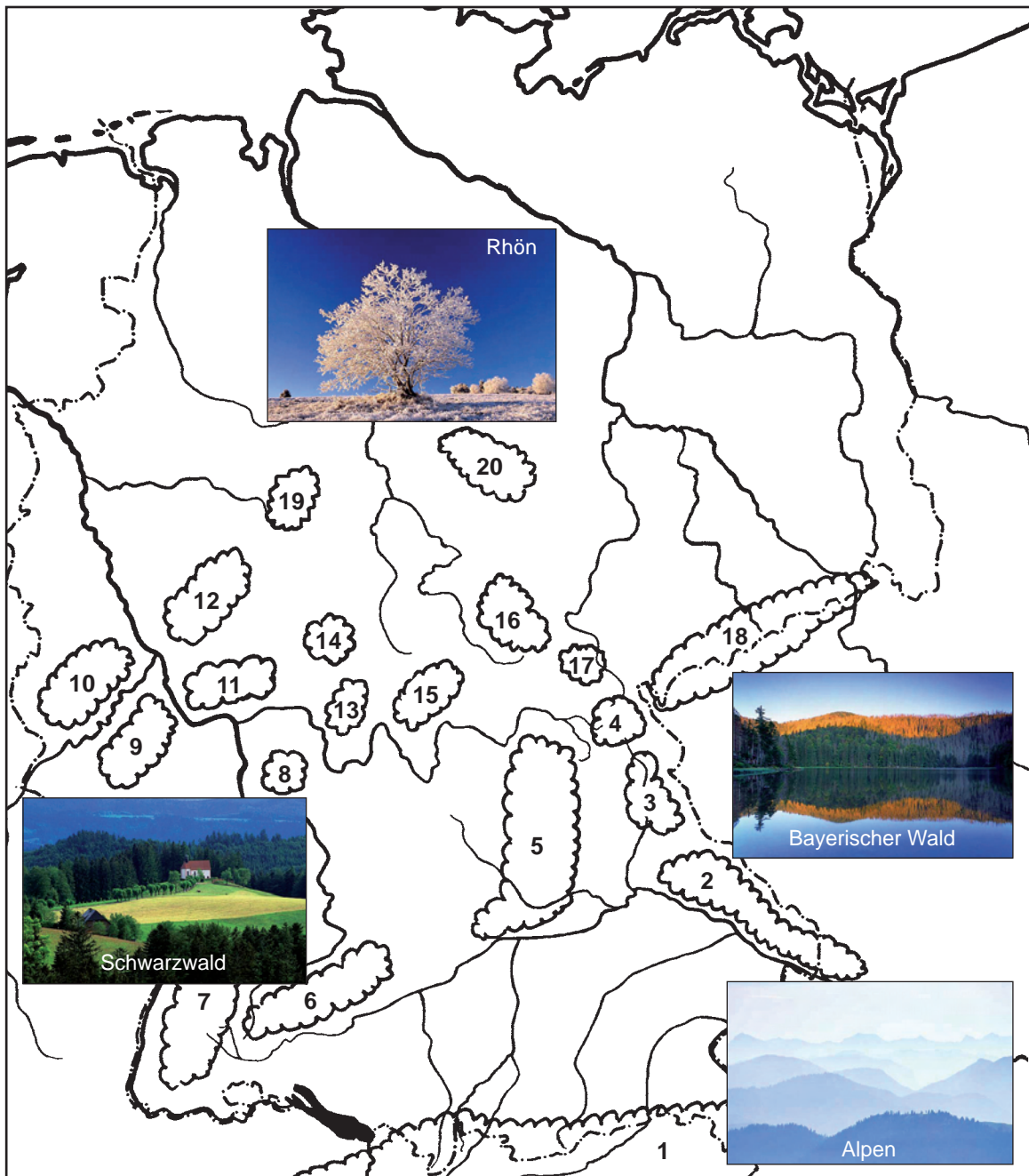
- | | | | |
|----|-------|----|-------|
| 1 | _____ | 11 | _____ |
| 2 | _____ | 12 | _____ |
| 3 | _____ | 13 | _____ |
| 4 | _____ | 14 | _____ |
| 5 | _____ | 15 | _____ |
| 6 | _____ | 16 | _____ |
| 7 | _____ | 17 | _____ |
| 8 | _____ | 18 | _____ |
| 9 | _____ | 19 | _____ |
| 10 | _____ | 20 | _____ |



Geografie

Name:

Datum:

Deutschland: Gebirge

- | | |
|---|--|
| 1 <u>Alpen (Zugspitze 2962)</u> | 11 <u>Taunus (Großer Feldberg 879)</u> |
| 2 <u>Bayerischer Wald (Großer Arber 1456)</u> | 12 <u>Westerwald (Fuchskaufen 656)</u> |
| 3 <u>Oberpfälzer Wald (Donnersberg 686)</u> | 13 <u>Spessart (Geiersberg 586)</u> |
| 4 <u>Fichtelgebirge (Schneeberg 1051)</u> | 14 <u>Vogelsberg (Taufstein 773)</u> |
| 5 <u>Fränkische Alb (Hesselberg 689)</u> | 15 <u>Rhön (Wasserkuppe 950)</u> |
| 6 <u>Schwäbische Alb (Lemberg 1015)</u> | 16 <u>Thüringer Wald (Großer Beerberg 982)</u> |
| 7 <u>Schwarzwald (Feldberg 1493)</u> | 17 <u>Frankenwald (Döbraberg 795)</u> |
| 8 <u>Odenwald (Katzenbuckel 626)</u> | 18 <u>Erzgebirge (Keilberg 1244)</u> |
| 9 <u>Hunsrück (Erbeskopf 818)</u> | 19 <u>Rothaargebirge (Langenberg 843)</u> |
| 10 <u>Eifel (Hohe Acht 746)</u> | 20 <u>Harz (Brocken 1142)</u> |

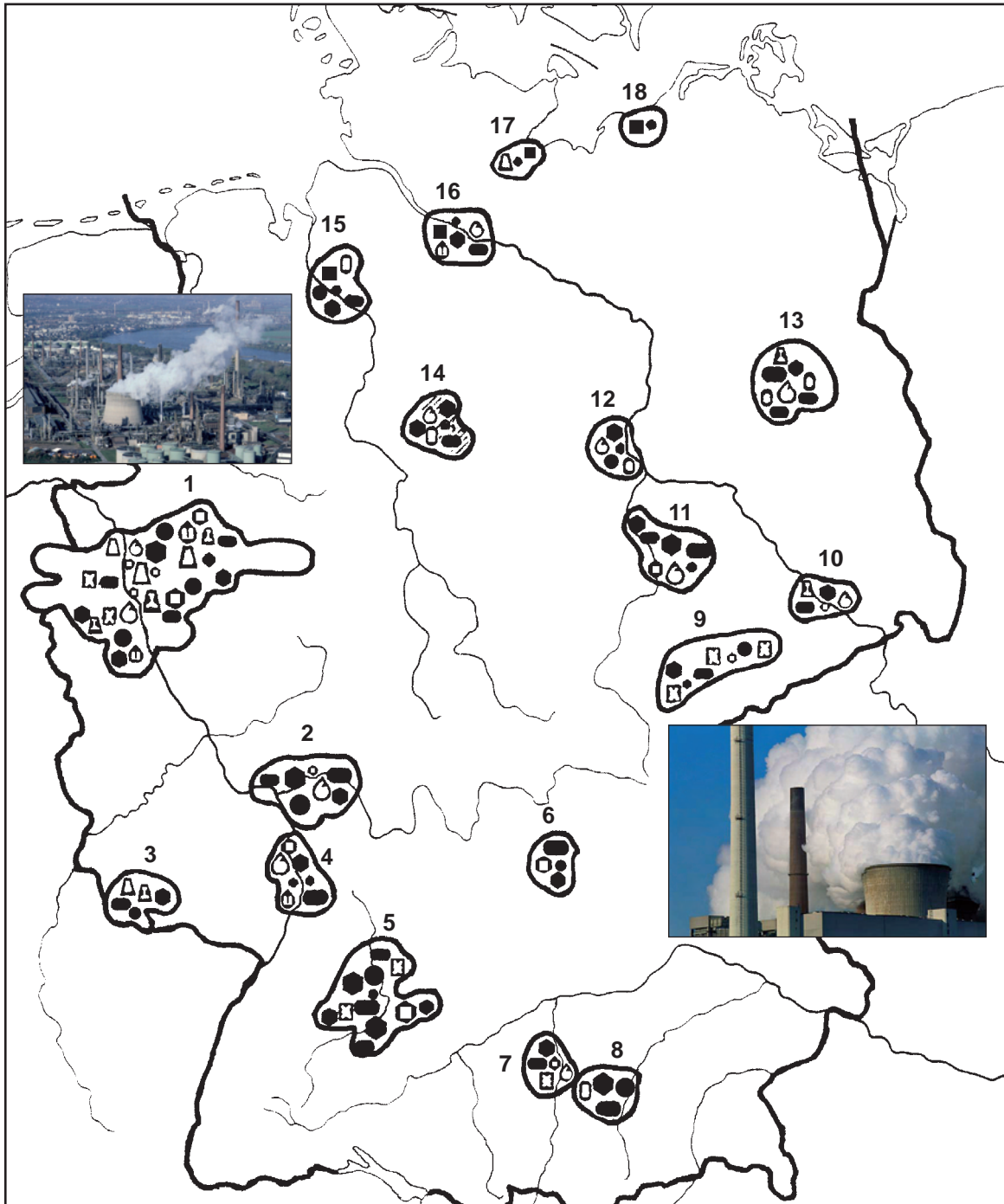


Geografie

Name: _____

Datum: _____

Deutschland: Industriezentren



- 1 _____
- 2 _____
- 3 _____
- 4 _____
- 5 _____
- 6 _____
- 7 _____
- 8 _____
- 9 _____

- 10 _____
- 11 _____
- 12 _____
- 13 _____
- 14 _____
- 15 _____
- 16 _____
- 17 _____
- 18 _____

- △ Eisenverhüttung, Stahlherstellung
- ▴ Gießerei, Walzwerk, Stahlbau
- ⊕ Metallverarbeitende Industrie
- Maschinenindustrie
- Schiffbau
- Kraftfahrzeugindustrie
- Elektroindustrie
- ⊖ Chemische Industrie
- ⊖ Erdölraffinerie
- ⊖ Textilindustrie
- ⊖ Nahrungsmittelindustrie
- Industriegebiet

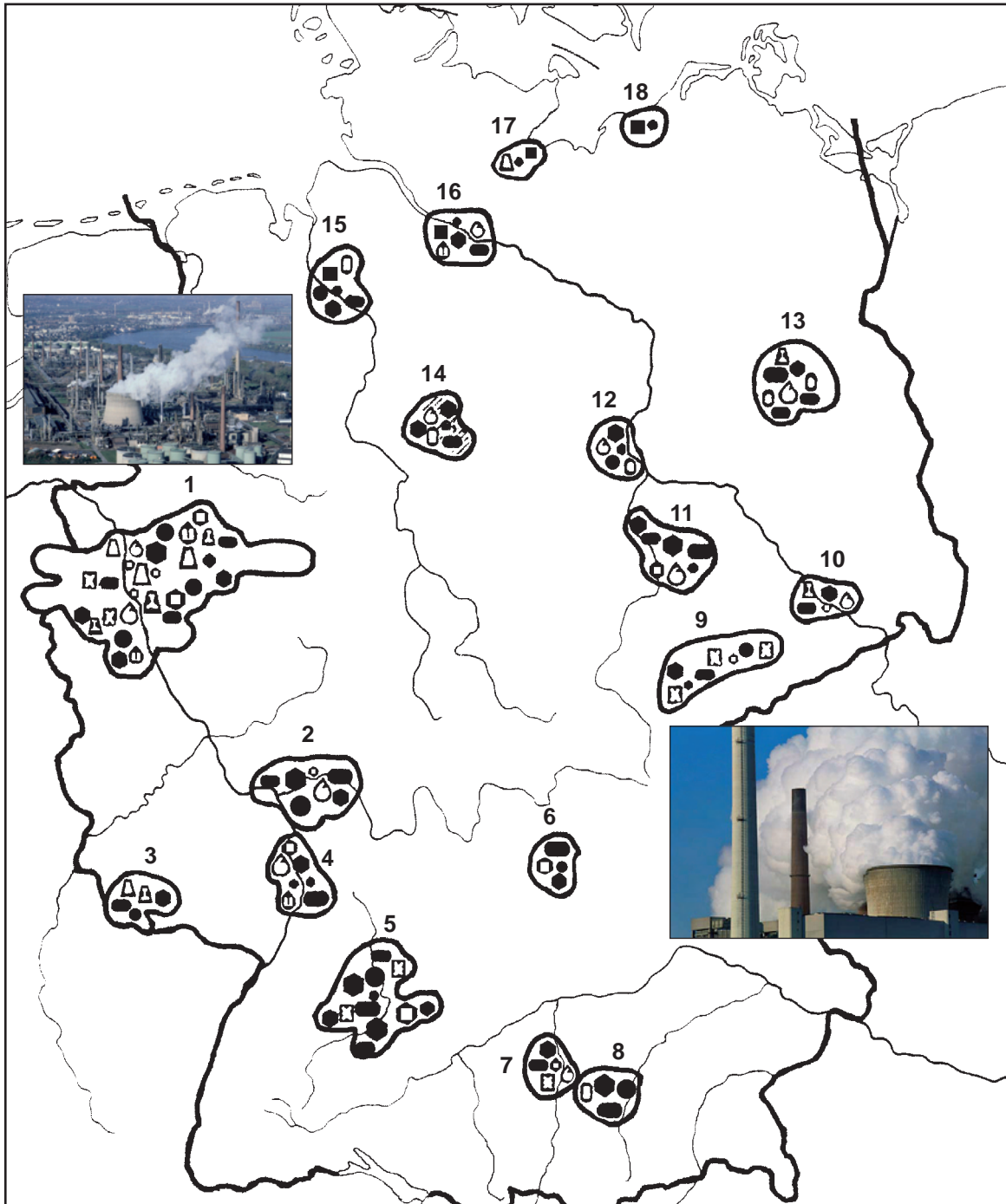


Geografie

Name:

Datum:

Deutschland: Industriezentren



- | | | |
|-----------------------------------|--------------------------------|-------------------------------------|
| 1 <u>Ruhrgebiet</u> | 10 <u>Region Dresden</u> | △ Eisenverhüttung, Stahlherstellung |
| 2 <u>Region Frankfurt am Main</u> | 11 <u>Region Leipzig/Halle</u> | ▲ Gießerei, Walzwerk, Stahlbau |
| 3 <u>Region Saarbrücken</u> | 12 <u>Region Magdeburg</u> | ⊕ Metallverarbeitende Industrie |
| 4 <u>Mannheim/Ludwigshafen</u> | 13 <u>Großraum Berlin</u> | ● Maschinenindustrie |
| 5 <u>Großraum Stuttgart</u> | 14 <u>Region Hannover</u> | ■ Schiffbau |
| 6 <u>Region Nürnberg/Fürth</u> | 15 <u>Großraum Bremen</u> | ● Kraftfahrzeugindustrie |
| 7 <u>Region Augsburg</u> | 16 <u>Großraum Hamburg</u> | ● Elektroindustrie |
| 8 <u>Großraum München</u> | 17 <u>Region Lübeck</u> | ⊕ Chemische Industrie |
| 9 <u>Region Zwickau/Chemnitz</u> | 18 <u>Region Rostock</u> | ⊕ Erdölraffinerie |
| | | ⊕ Textilindustrie |
| | | ⊕ Nahrungsmittelindustrie |
| | | □ Industriegebiet |



Geografie

Name:

Datum:

Deutschland: Sehenswürdigkeiten



Geografie

Name:


Datum:

Deutschland: Sehenswürdigkeiten


Speicherstadt
in Hamburg



Holstentor
in Lübeck




Dom zu Köln



Brandenburger Tor
in Berlin

Dom zu Erfurt



Kathedrale
in Limburg



Zwinger in Dresden



Stiftskirche
in Stuttgart



Barockkirche in
Vierzehnheiligen



Schloss
in Heidelberg




Frauenkirche
und Rathaus
in München



Schloss
Neuschwanstein



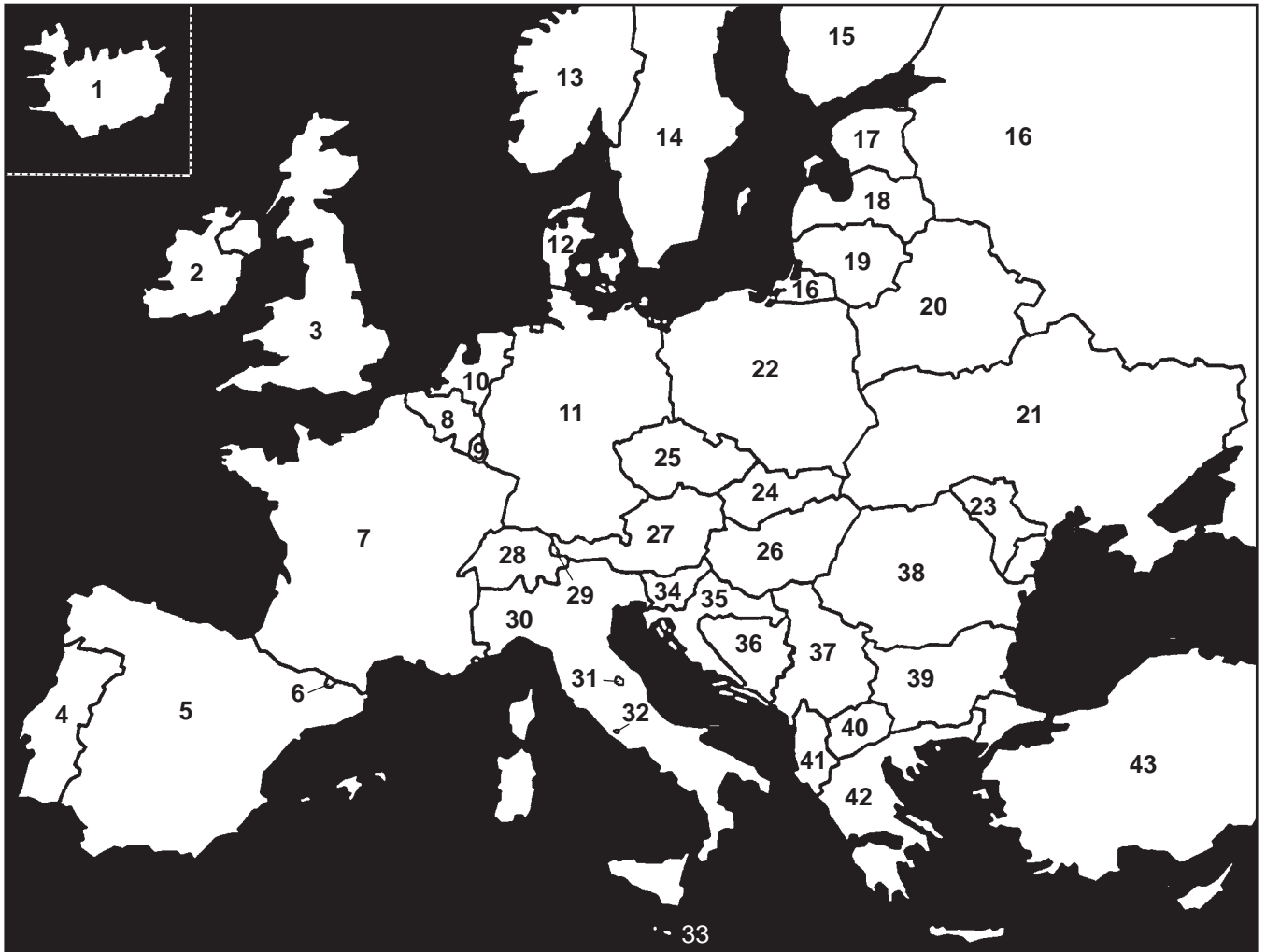


Geografie

Name: _____

Datum: _____

Europa: Länder



- 1 _____
- 2 _____
- 3 _____
- 4 _____
- 5 _____
- 6 _____
- 7 _____
- 8 _____
- 9 _____
- 10 _____
- 11 _____
- 12 _____
- 13 _____
- 14 _____
- 15 _____
- 16 _____

- 17 _____
- 18 _____
- 19 _____
- 20 _____
- 21 _____
- 22 _____
- 23 _____
- 24 _____
- 25 _____
- 26 _____
- 27 _____
- 28 _____
- 29 _____
- 30 _____
- 31 _____
- 32 _____

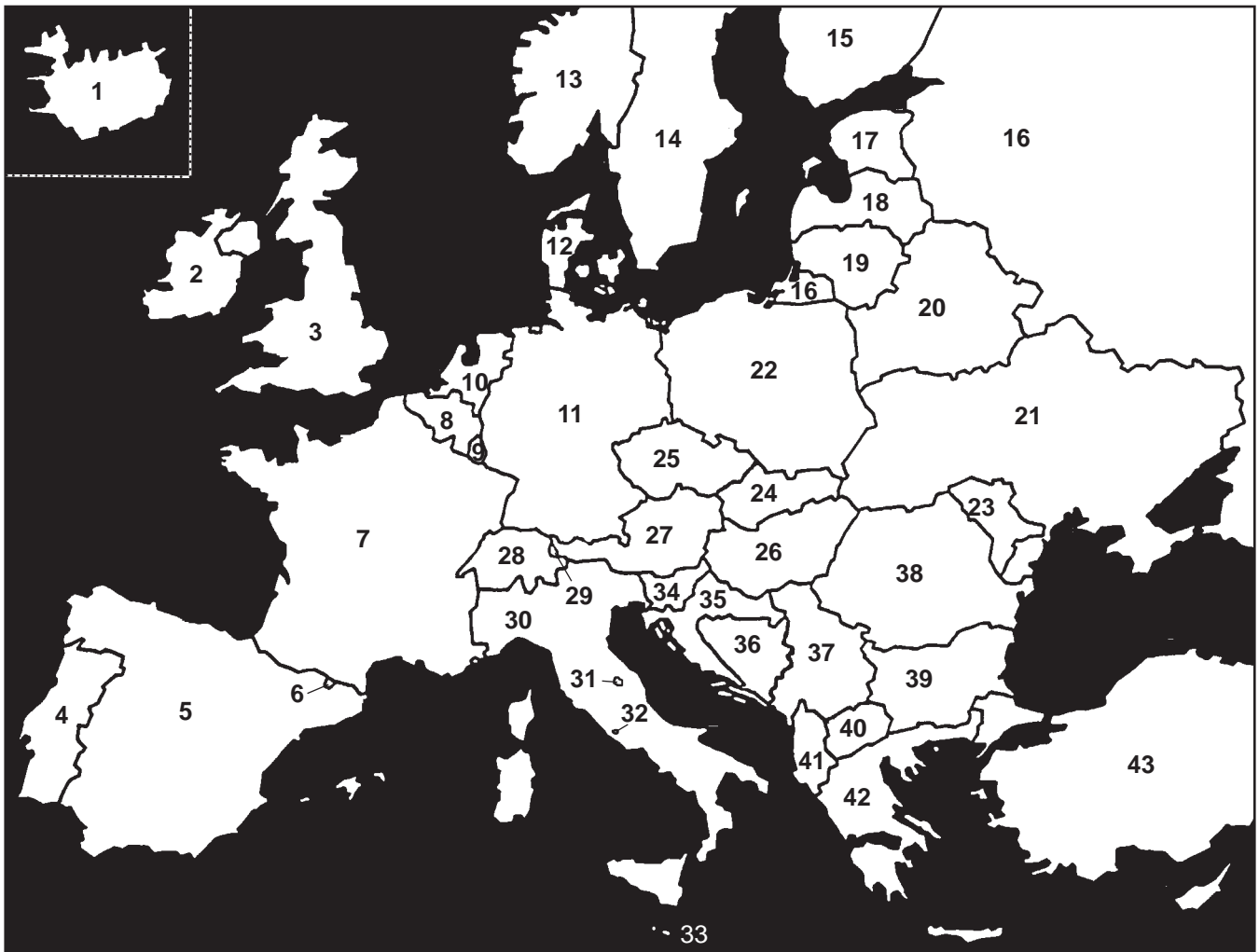
- 33 _____
- 34 _____
- 35 _____
- 36 _____
- 37 _____
- 38 _____
- 39 _____
- 40 _____
- 41 _____
- 42 _____
- 43 _____



Geografie

Name: _____

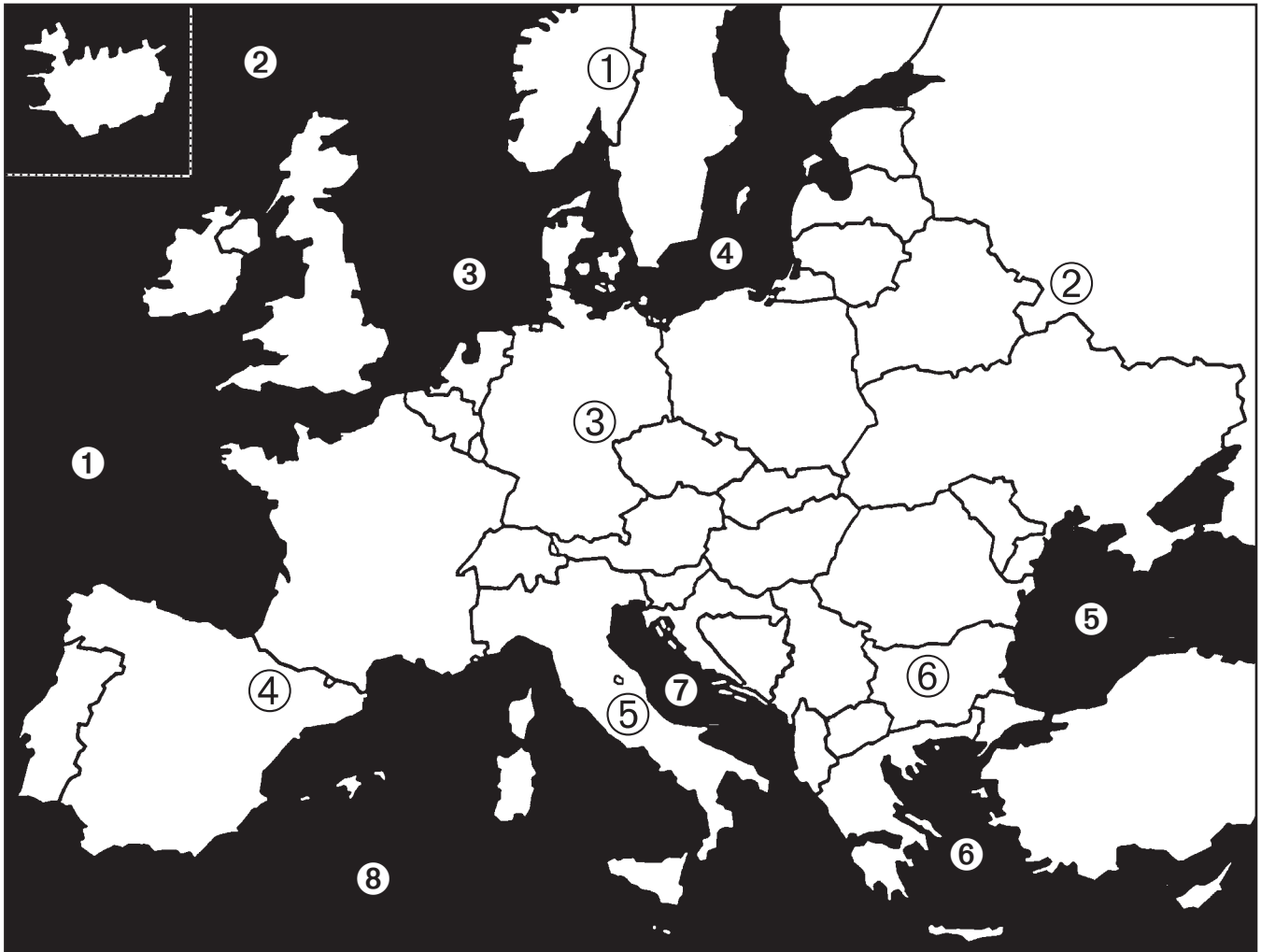
Datum: _____

Europa: Länder

- | | | |
|-------------------------|---------------------------------|-------------------------------|
| 1 <u>Island</u> | 17 <u>Estland</u> | 33 <u>Malta</u> |
| 2 <u>Irland</u> | 18 <u>Lettland</u> | 34 <u>Slowenien</u> |
| 3 <u>Großbritannien</u> | 19 <u>Litauen</u> | 35 <u>Kroatien</u> |
| 4 <u>Portugal</u> | 20 <u>Weißrussland</u> | 36 <u>Bosnien-Herzegowina</u> |
| 5 <u>Spanien</u> | 21 <u>Ukraine</u> | 37 <u>Serbien/Montenegro</u> |
| 6 <u>Andorra</u> | 22 <u>Polen</u> | 38 <u>Rumänien</u> |
| 7 <u>Frankreich</u> | 23 <u>Moldau</u> | 39 <u>Bulgrien</u> |
| 8 <u>Belgien</u> | 24 <u>Slowakei</u> | 40 <u>Mazedonien</u> |
| 9 <u>Luxemburg</u> | 25 <u>Tschechische Republik</u> | 41 <u>Albanien</u> |
| 10 <u>Niederlande</u> | 26 <u>Ungarn</u> | 42 <u>Griechenland</u> |
| 11 <u>Deutschland</u> | 27 <u>Österreich</u> | 43 <u>Türkei</u> |
| 12 <u>Dänemark</u> | 28 <u>Schweiz</u> | |
| 13 <u>Norwegen</u> | 29 <u>Liechtenstein</u> | |
| 14 <u>Schweden</u> | 30 <u>Italien</u> | |
| 15 <u>Finnland</u> | 31 <u>San Marino</u> | |
| 16 <u>Russland</u> | 32 <u>Vatikanstadt</u> | |



Europa: Großräume und Meere




Meere

- ① _____
- _____
- ② _____
- _____
- ③ _____
- _____
- ④ _____
- _____
- ⑤ _____
- _____
- ⑥ _____
- _____
- ⑦ _____
- _____
- ⑧ _____
- _____

Großräume

- ① _____
- ② _____
- ③ _____
- ④ _____
- ⑤ _____
- ⑥ _____

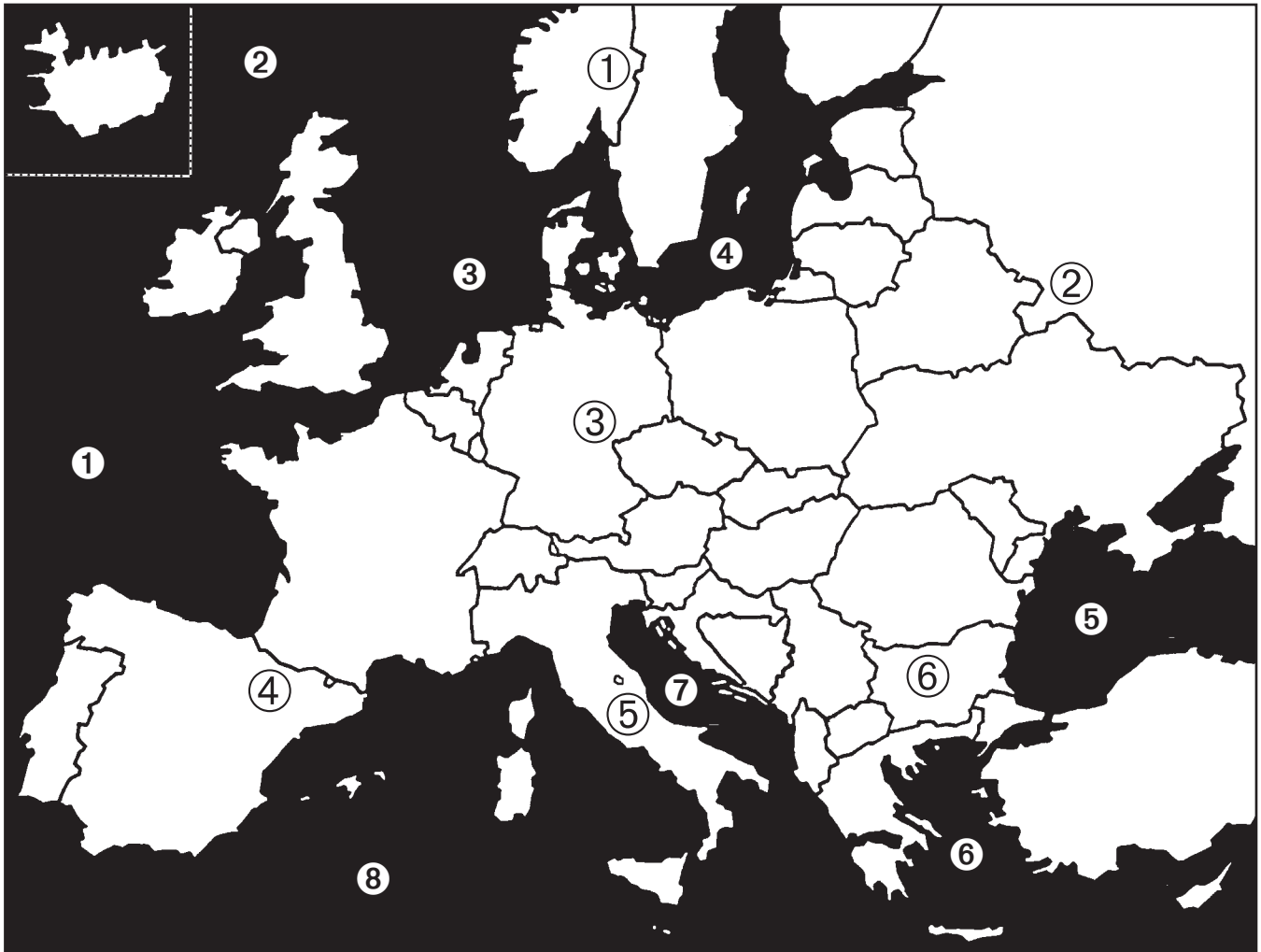


Geografie

Name:

Datum:

Europa: Großräume und Meere




Meere

- ① Atlantischer Ozean (106 Mio. km², bis 9219 m tief)
- ② Nordpolarmeer (14 Mio. km², fast nur von Eis bedeckt)
- ③ Nordsee (575000 km², bis 705 m tief, Gezeiten stark)
- ④ Ostsee (422000 km², bis 459 m tief, Gezeiten gering)
- ⑤ Schwarzes Meer (423000 km², bis 2240 m tief)
- ⑥ Ägäisches Meer (179000 km², bis zu 2542 m tief)
- ⑦ Adria (132000 km², bis zu 1399 m tief)
- ⑧ Mittelmeer (2496000 km², sehr salzhaltig - bis zu 39 ‰)

Großräume

- ① Nordeuropa
- ② Osteuropa
- ③ Mitteleuropa
- ④ Westeuropa
- ⑤ Südeuropa
- ⑥ Südosteuropa



Geografie


Name:

Datum:

Europa: Flüsse



- | | |
|----------|----------|
| 1 _____ | 11 _____ |
| 2 _____ | 12 _____ |
| 3 _____ | 13 _____ |
| 4 _____ | 14 _____ |
| 5 _____ | 15 _____ |
| 6 _____ | 16 _____ |
| 7 _____ | 17 _____ |
| 8 _____ | 18 _____ |
| 9 _____ | 19 _____ |
| 10 _____ | 20 _____ |

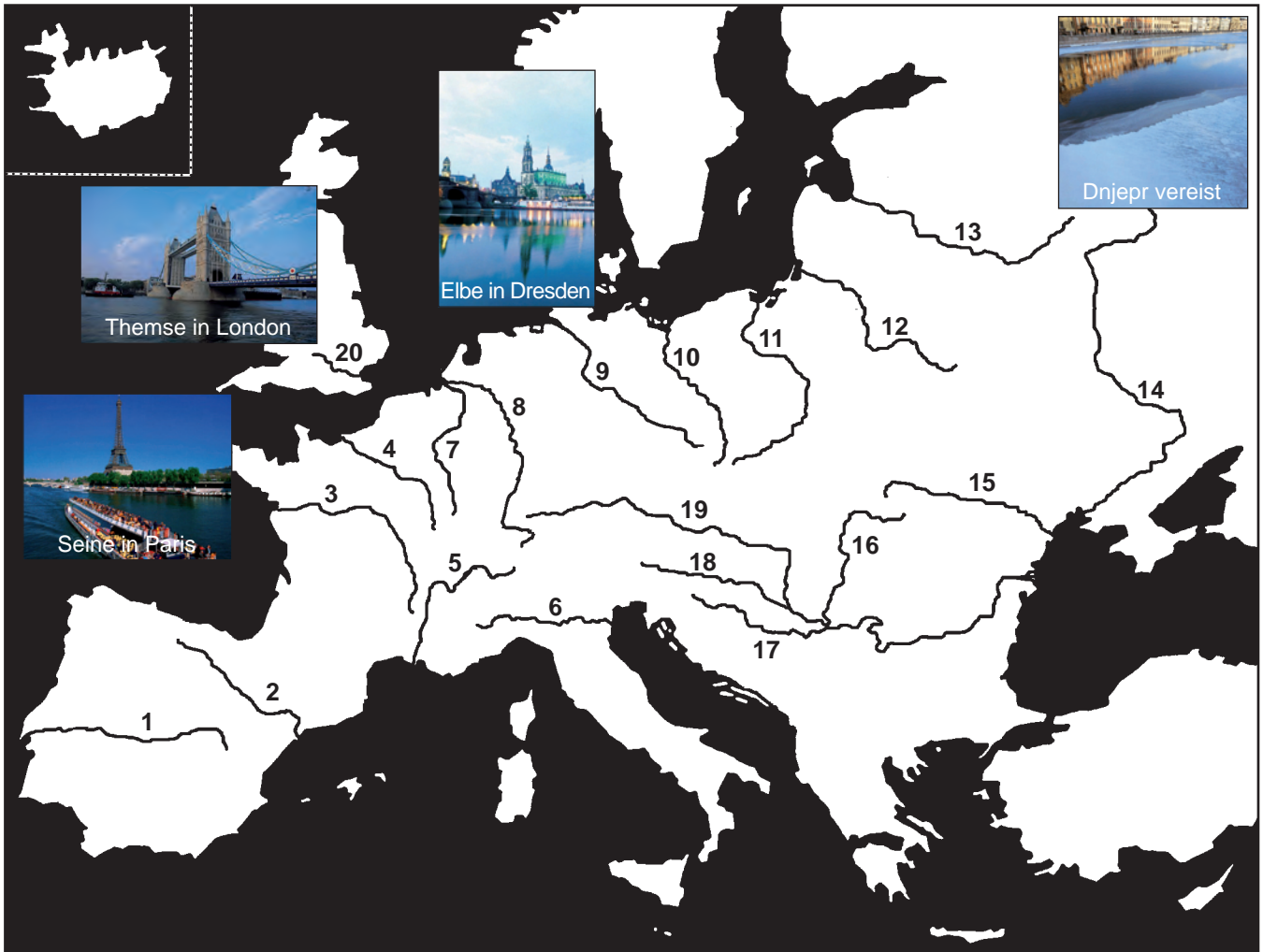


Geografie

Name:

Datum:

Europa: Flüsse



- | | |
|---|--|
| 1 Tajo (1008 km, 212 km schiffbar) | 11 Weichsel (1068 km) |
| 2 Ebro (927 km) | 12 Memel (879 km) |
| 3 Loire (1010 km) | 13 Düna (960 km) |
| 4 Seine (776 km) | 14 Dnjepr (2285 km) |
| 5 Rhône (812 km) | 15 Dnister (730 km) |
| 6 Po (676 km) | 16 Theiß (545 km) |
| 7 Maas (925 km, 574 km schiffbar) | 17 Save (581 km) |
| 8 Rhein (1320 km) | 18 Drau (725 km) |
| 9 Elbe (1144 km, 846 km schiffbar) | 19 Donau (2850 km, 647 km in Deutschland) |
| 10 Oder (912 km) | 20 Themse (210 km) |



Geografie

Name: _____

Datum: _____

Europa: Gebirge und Inseln



Inseln

- ① _____
- ② _____
- ③ _____
- ④ _____
- ⑤ _____
- ⑥ _____
- ⑦ _____
- ⑧ _____
- ⑨ _____
- ⑩ _____

Gebirge

- ① _____
- ② _____
- ③ _____
- ④ _____
- ⑤ _____



Dolomiten (Südtirol/Italien)



Geografie

Name:

Datum:

Europa: Gebirge und Inseln



Inseln

- ① Zypern (9251 km²)
- ② Kreta (8259 m²), griech.
- ③ Malta (316 km²)
- ④ Sizilien (25426 km²), ital.
- ⑤ Sardinien (24090 km²), ital.
- ⑥ Korsika (8722 km²), franz.
- ⑦ Balearen (Mallorca u.a.), span.
- ⑧ Irland/Nordirland (82459 km²)
- ⑨ Island (102819 km²)
- ⑩ England/Schottland/Wales (244030 km²)

Gebirge

- ① Balkan (Botev 2375 m)
- ② Karpaten (Moldoveanu 2854 m)
- ③ Alpen (Mont Blanc 4807 m)
- ④ Pyrenäen (Maladeta 3404 m)
- ⑤ Apenninen (Gran Sasso 2914 m)



Dolomiten (Südtirol/Italien)

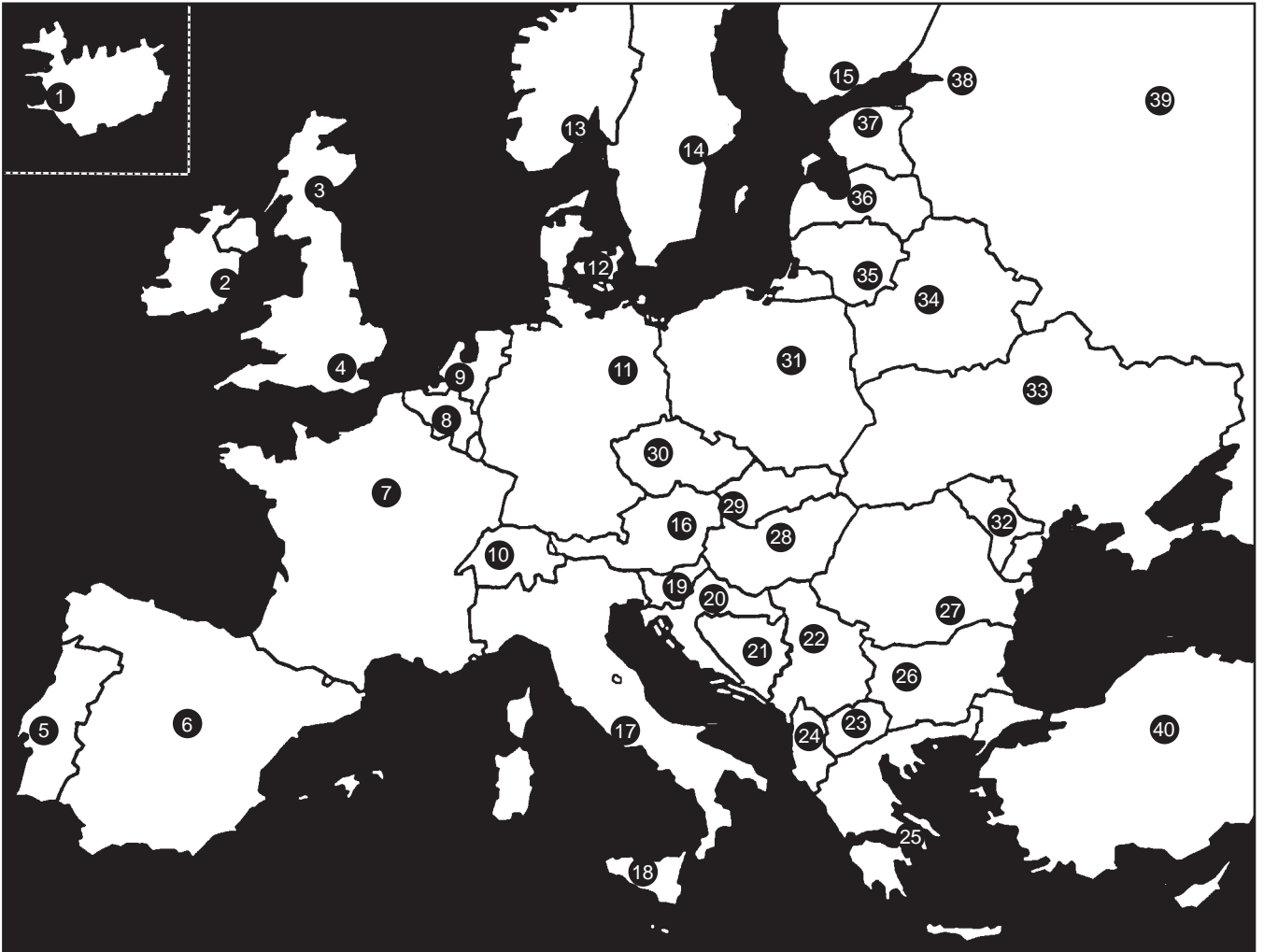


Geografie

Name: _____

Datum: _____

Europa: Wichtige Städte



- 1 _____
- 2 _____
- 3 _____
- 4 _____
- 5 _____
- 6 _____
- 7 _____
- 8 _____
- 9 _____
- 10 _____
- 11 _____
- 12 _____
- 13 _____
- 14 _____
- 15 _____
- 16 _____

- 17 _____
- 18 _____
- 19 _____
- 20 _____
- 21 _____
- 22 _____
- 23 _____
- 24 _____
- 25 _____
- 26 _____
- 27 _____
- 28 _____
- 29 _____
- 30 _____
- 31 _____
- 32 _____

- 33 _____
- 34 _____
- 35 _____
- 36 _____
- 37 _____
- 38 _____
- 39 _____
- 40 _____



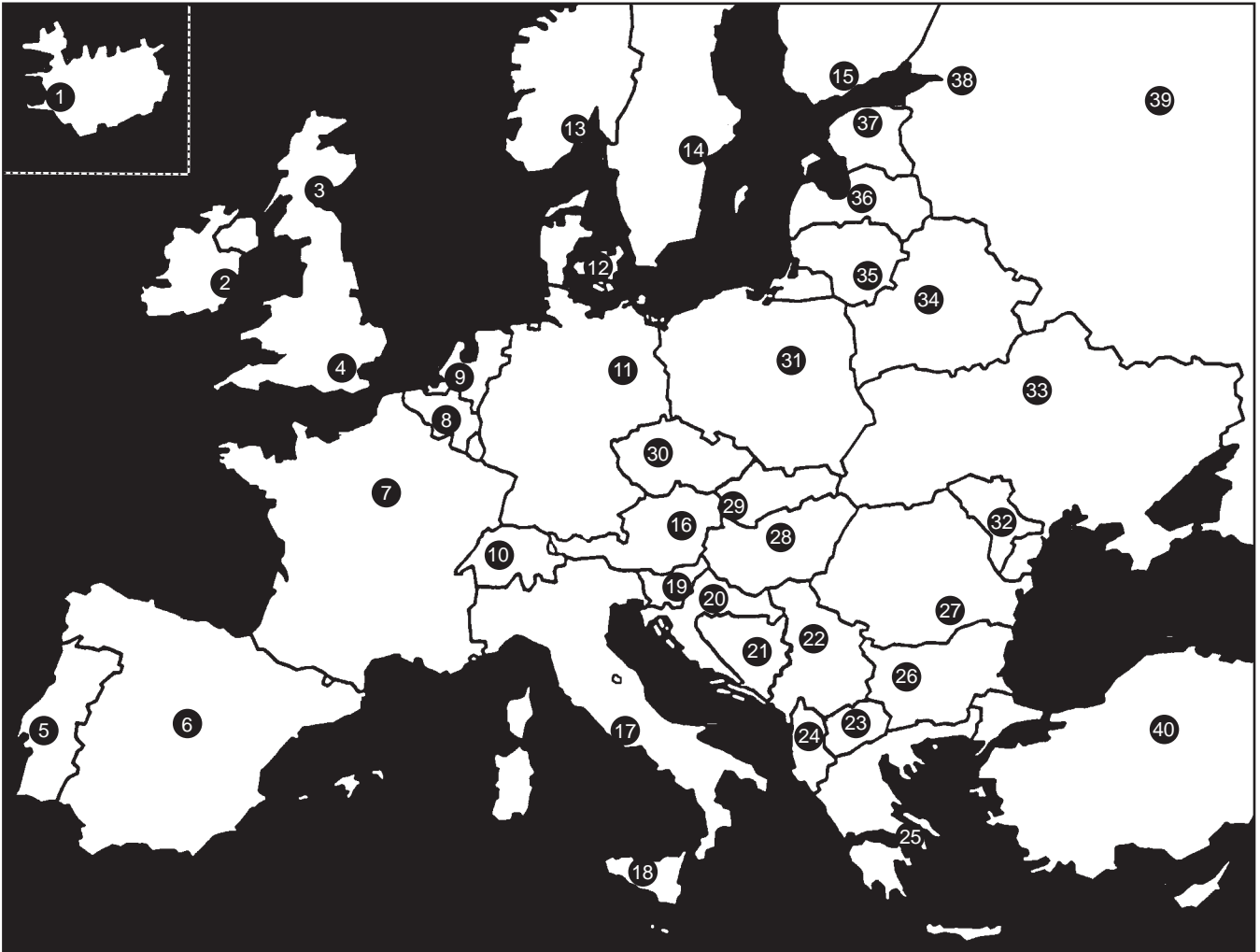
Petersdom in Rom



Geografie

Name: _____

Datum: _____

Europa: Wichtige Städte

- | | | |
|----------------------------------|-------------------------------------|-------------------------------------|
| 1 <u>Reykjavík (Island)</u> | 17 <u>Rom (Italien)</u> | 33 <u>Kiew (Ukraine)</u> |
| 2 <u>Dublin (Irland)</u> | 18 <u>Palermo (Sizilien)</u> | 34 <u>Minsk (Weißrussland)</u> |
| 3 <u>Glasgow (Schottland)</u> | 19 <u>Ljubljana (Slowenien)</u> | 35 <u>Wilna (Litauen)</u> |
| 4 <u>London (England)</u> | 20 <u>Zagreb (Kroatien)</u> | 36 <u>Riga (Lettland)</u> |
| 5 <u>Lissabon (Portugal)</u> | 21 <u>Sarajewo (Bosnien-Herz.)</u> | 37 <u>Tallinn (Estland)</u> |
| 6 <u>Madrid (Spanien)</u> | 22 <u>Belgrad (Serbien-Monten.)</u> | 38 <u>St. Petersburg (Russland)</u> |
| 7 <u>Paris (Frankreich)</u> | 23 <u>Skopje (Mazedonien)</u> | 39 <u>Moskau (Russland)</u> |
| 8 <u>Brüssel (Belgien)</u> | 24 <u>Tirana (Albanien)</u> | 40 <u>Ankara (Türkei)</u> |
| 9 <u>Amsterdam (Niederlande)</u> | 25 <u>Athen (Griechenland)</u> | |
| 10 <u>Bern (Schweiz)</u> | 26 <u>Sofia (Bulgarien)</u> | |
| 11 <u>Berlin (Deutschland)</u> | 27 <u>Bukarest (Rumänien)</u> | |
| 12 <u>Kopenhagen (Dänemark)</u> | 28 <u>Budapest (Ungarn)</u> | |
| 13 <u>Oslo (Norwegen)</u> | 29 <u>Bratislava (Slowakei)</u> | |
| 14 <u>Stockholm (Schweden)</u> | 30 <u>Prag (Tschechische Rep.)</u> | |
| 15 <u>Helsinki (Finnland)</u> | 31 <u>Warschau (Polen)</u> | |
| 16 <u>Wien (Österreich)</u> | 32 <u>Chişinău (Moldau)</u> | |



Petersdom in Rom



Geografie

Name:

Datum:

Europa: Sehenswürdigkeiten



- 1 _____
- 2 _____
- 3 _____
- 4 _____
- 5 _____
- 6 _____
- 7 _____
- 8 _____
- 9 _____
- 10 _____
- 11 _____
- 12 _____
- 13 _____
- 14 _____
- 15 _____
- 16 _____



Parlament und Big Ben in London



Geografie

Name:

Datum:

Europa: Sehenswürdigkeiten



- 1 Eilean Donan Castle (Schottland)
- 2 Stonehenge (England)
- 3 Towerbridge in London (England)
- 4 Notre-Dame in Paris (Frankreich)
- 5 Eiffelturm in Paris (Frankreich)
- 6 Atomium in Brüssel (Belgien)
- 7 Riesenrad/Prater in Wien (Österreich)
- 8 Alhambra in Granada (Spanien)
- 9 La Sagrada Familia Kathedrale in Barcelona (Spanien)
- 10 Kolosseum in Rom (Italien)
- 11 Campanile in Venedig (Italien)
- 12 Schiefer Turm in Pisa (Italien)
- 13 Akropolis in Athen (Griechenland)
- 14 Blaue Moschee in Istanbul (Türkei)
- 15 Basilius-Kathedrale in Moskau (Russland)
- 16 Kleine Meerjungfrau in Kopenhagen (Dänemark)



Parlament und Big Ben in London

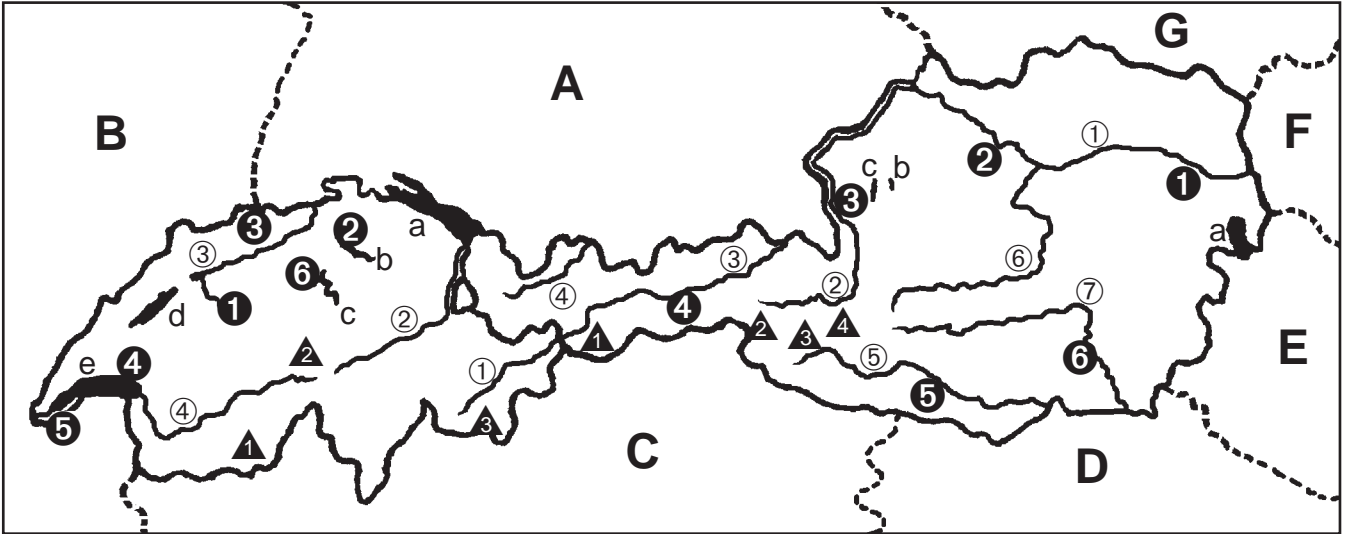


Geografie

Name: _____

Datum: _____

Europa: Schweiz / Österreich



Städte Österreich

- ① _____
- ② _____
- ③ _____
- ④ _____
- ⑤ _____
- ⑥ _____

Städte Schweiz

- ① _____
- ② _____
- ③ _____
- ④ _____
- ⑤ _____
- ⑥ _____

Flüsse Österreich

- ① _____
- ② _____
- ③ _____
- ④ _____
- ⑤ _____
- ⑥ _____
- ⑦ _____

Flüsse Schweiz

- ① _____
- ② _____
- ③ _____
- ④ _____

Seen Schweiz

- a _____
- b _____
- c _____
- d _____
- e _____

Seen Österreich

- a _____
- b _____
- c _____

Berge Schweiz

- ▲ _____
- ▲ _____
- ▲ _____

Berge Österreich

- ▲ _____
- ▲ _____
- ▲ _____
- ▲ _____

Nachbarländer

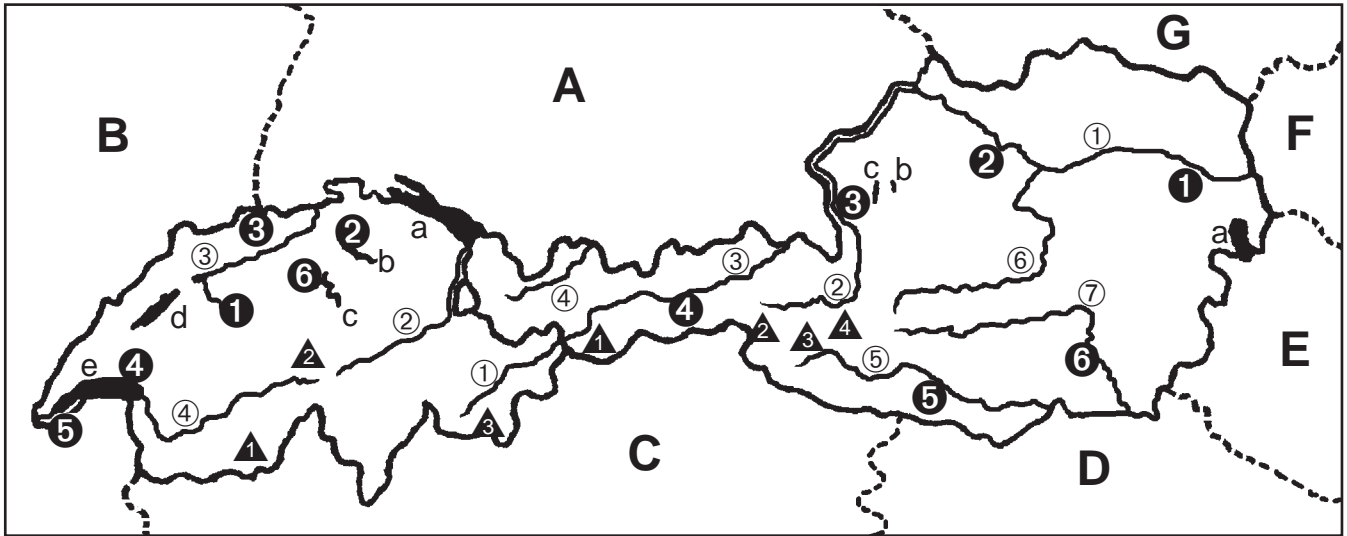
- A _____
- B _____
- C _____
- D _____
- E _____
- F _____
- G _____



Geografie

Name: _____

Datum: _____

Europa: Schweiz / Österreich**Städte Österreich**

- ① Wien
- ② Linz
- ③ Salzburg
- ④ Innsbruck
- ⑤ Klagenfurt
- ⑥ Graz

Städte Schweiz

- ① Bern
- ② Zürich
- ③ Basel
- ④ Lausanne
- ⑤ Genf
- ⑥ Luzern

Flüsse Österreich

- ① Donau
- ② Salzach
- ③ Inn
- ④ Lech
- ⑤ Drau
- ⑥ Enns
- ⑦ Mur

Flüsse Schweiz

- ① Inn
- ② Rhein
- ③ Aare
- ④ Rhône

Seen Schweiz

- a Bodensee
- b Zürichsee
- c Vierwaldstätter See
- d Neuenburger See
- e Genfer See

Seen Österreich

- a Neusiedler See
- b Traunsee
- c Attersee (Kammersee)

Berge Schweiz

- ▲ Matterhorn (4478)
- ▲ Finsteraarhorn (4274)
- ▲ Piz Bernina (4049)

Berge Österreich

- ▲ Wildspitze (3768)
- ▲ Großvenediger (3674)
- ▲ Großglockner (3798)
- ▲ Gr. Wiesbachhorn (3570)

Nachbarländer

- A Deutschland
- B Frankreich
- C Italien
- D Slowenien
- E Ungarn
- F Slowakei
- G Tschechische Republik

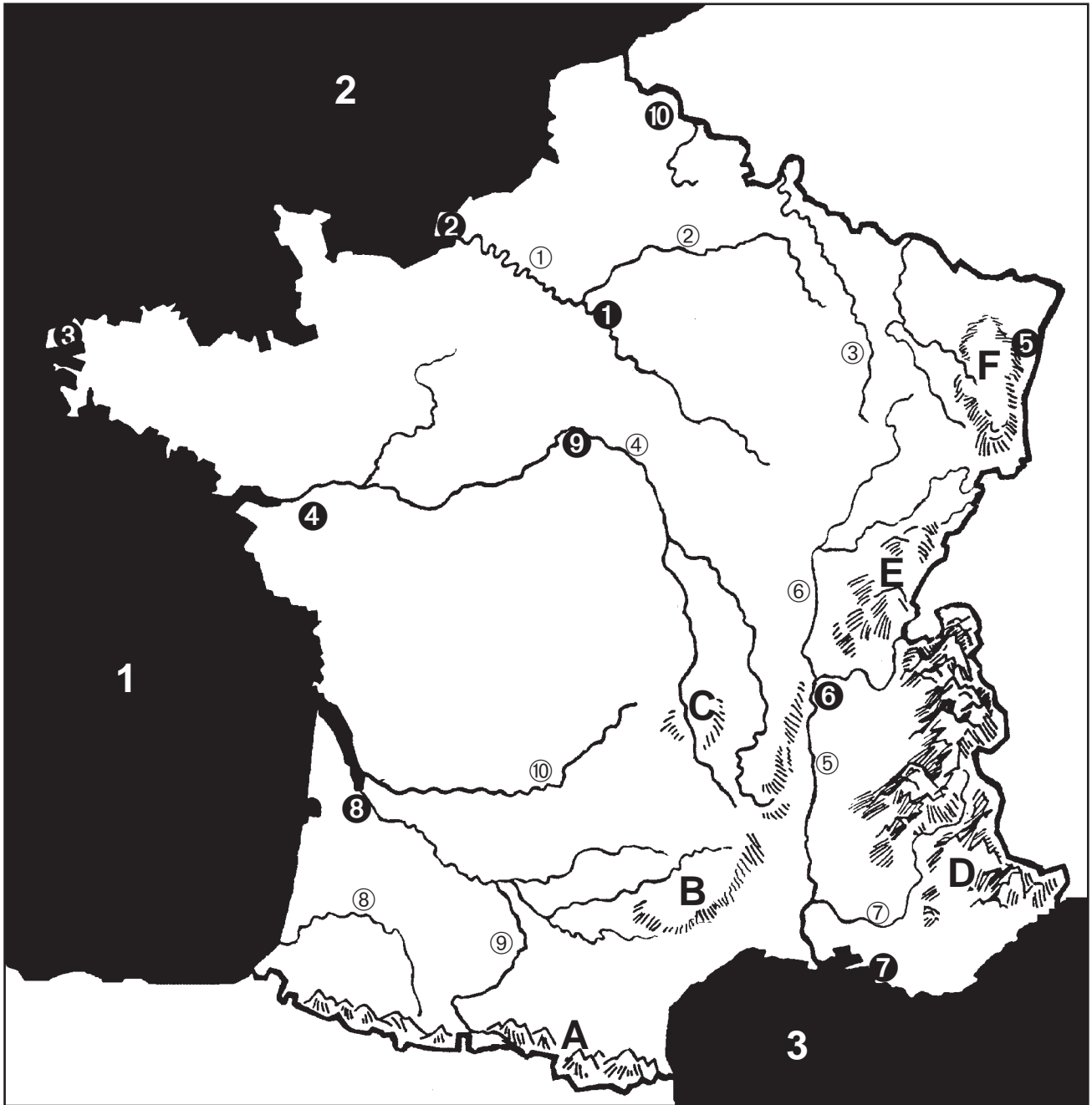


Geografie

Name: _____

Datum: _____

Europa: Frankreich



Städte

- ① _____
- ② _____
- ③ _____
- ④ _____
- ⑤ _____
- ⑥ _____
- ⑦ _____
- ⑧ _____
- ⑨ _____
- ⑩ _____

Flüsse

- ① _____
- ② _____
- ③ _____
- ④ _____
- ⑤ _____
- ⑥ _____
- ⑦ _____
- ⑧ _____
- ⑨ _____
- ⑩ _____

Gebirge

- A _____
- B _____
- C _____
- D _____
- E _____
- F _____

Meere

- 1 _____
- 2 _____
- 3 _____

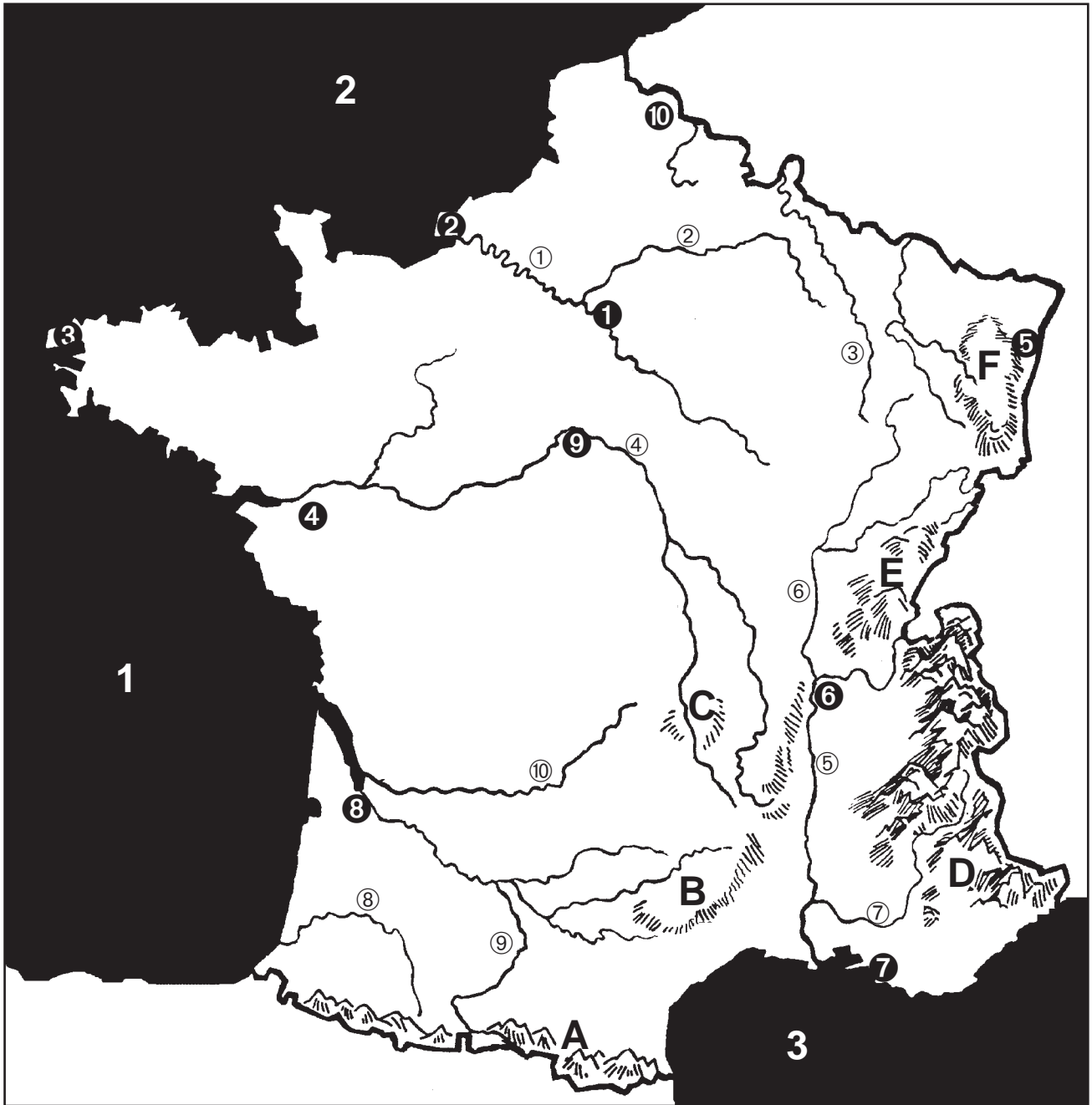


Geografie

Name: _____

Datum: _____

Europa: Frankreich



Städte

- ① Paris
 ② Le Havre
 ③ Brest
 ④ Nantes
 ⑤ Strasbourg (Straßburg)
 ⑥ Lyon
 ⑦ Marseille
 ⑧ Bordeaux
 ⑨ Orléans
 ⑩ Lille

Flüsse

- ① Seine
 ② Marne
 ③ Maas
 ④ Loire
 ⑤ Rhône
 ⑥ Saône
 ⑦ Durance
 ⑧ Adour
 ⑨ Garonne
 ⑩ Dordogne

Gebirge

- A Pyrenäen
 B Cevennen
 C Zentralmassiv
 D Alpen
 E Jura
 F Vogesen
Meere
 1 Golf v. Biscaya (Atlantik)
 2 Der Kanal
 3 Mittelmeer





Geografie

Name: _____

Datum: _____

Europa: Skandinavien



Städte

- ① _____
- ② _____
- ③ _____
- ④ _____
- ⑤ _____
- ⑥ _____
- ⑦ _____
- ⑧ _____
- ⑨ _____
- ⑩ _____

Inseln / Meere

- A _____
- B _____
- C _____
- 1 _____
- 2 _____
- 3 _____
- 4 _____
- 5 _____
- 6 _____
- 7 _____





Geografie

Name:

Datum:

Europa: Skandinavien



Städte

- ① Oslo
- ② Bergen
- ③ Trondheim
- ④ Hammerfest
- ⑤ Stockholm
- ⑥ Uppsala
- ⑦ Göteborg
- ⑧ Malmö
- ⑨ Helsinki
- ⑩ Tampere

Inseln / Meere

- A Öland
- B Gotland
- C Ålandinseln
- 1 Nordsee
- 2 Skagerrak
- 3 Kattegat
- 4 Ostsee
- 5 Bottnischer Meerbusen
- 6 Europäisches Nordmeer
- 7 Barentssee



Geografie

Name: _____

Datum: _____

Europa: Großbritannien



Länder

- A _____ (GB)
- B _____ (GB)
- C _____ (GB)
- D _____ (GB)

Städte

- 1 _____
- 2 _____
- 3 _____
- 4 _____
- 5 _____
- 6 _____
- 7 _____
- 8 _____
- 9 _____
- 10 _____
- 11 _____
- 12 _____
- 13 _____
- 14 _____
- 15 _____
- 16 _____
- 17 _____
- 18 _____
- 19 _____
- 20 _____
- 21 _____
- 22 _____

Inseln

- ① _____
- ② _____
- ③ _____
- ④ _____
- ⑤ _____
- ⑥ _____
- ⑦ _____

Berge

- ▲ 1 _____
- ▲ 2 _____
- ▲ 3 _____

Flüsse / Meere / Kanäle

- ① _____
- ② _____
- ③ _____
- ④ _____
- ⑤ _____
- ⑥ _____
- ⑦ _____
- ⑧ _____
- ⑨ _____
- ⑩ _____



Geografie

Name: _____

Datum: _____

Europa: Großbritannien



Länder

- A England (GB)
 B Wales (GB)
 C Schottland (GB)
 D Nordirland (GB)

Städte

- 1 London
 2 Southampton
 3 Plymouth
 4 Southend-on-Sea
 5 Oxford
 6 Birmingham
 7 Leicester
 8 Cambridge
 9 Ipswich
 10 Nottingham
 11 Sheffield
 12 Manchester
 13 Liverpool
 14 Leeds
 15 NewCastle upon Tyne
 16 Bristol
 17 Glasgow
 18 Edinburgh
 19 Dundee
 20 Aberdeen
 21 Belfast
 22 Cardiff

Inseln

- ① Irland
 ② Wight
 ③ Anglesey
 ④ Man
 ⑤ Innere Hebriden
 ⑥ Äußere Hebriden
 ⑦ Orkney-Inseln

Berge

- ▲ ① Snowdon (1085)
 ▲ ② Scafell Pike (978)
 ▲ ③ Ben Nevis (1343)

Flüsse / Meere / Kanäle

- ① Themse
 ② Severn
 ③ Tay
 ④ Shannon
 ⑤ Der Kanal
 ⑥ Sankt-Georgs-Kanal
 ⑦ Irische See
 ⑧ Nordsee
 ⑨ Straße von Dover
 ⑩ Atlantischer Ozean

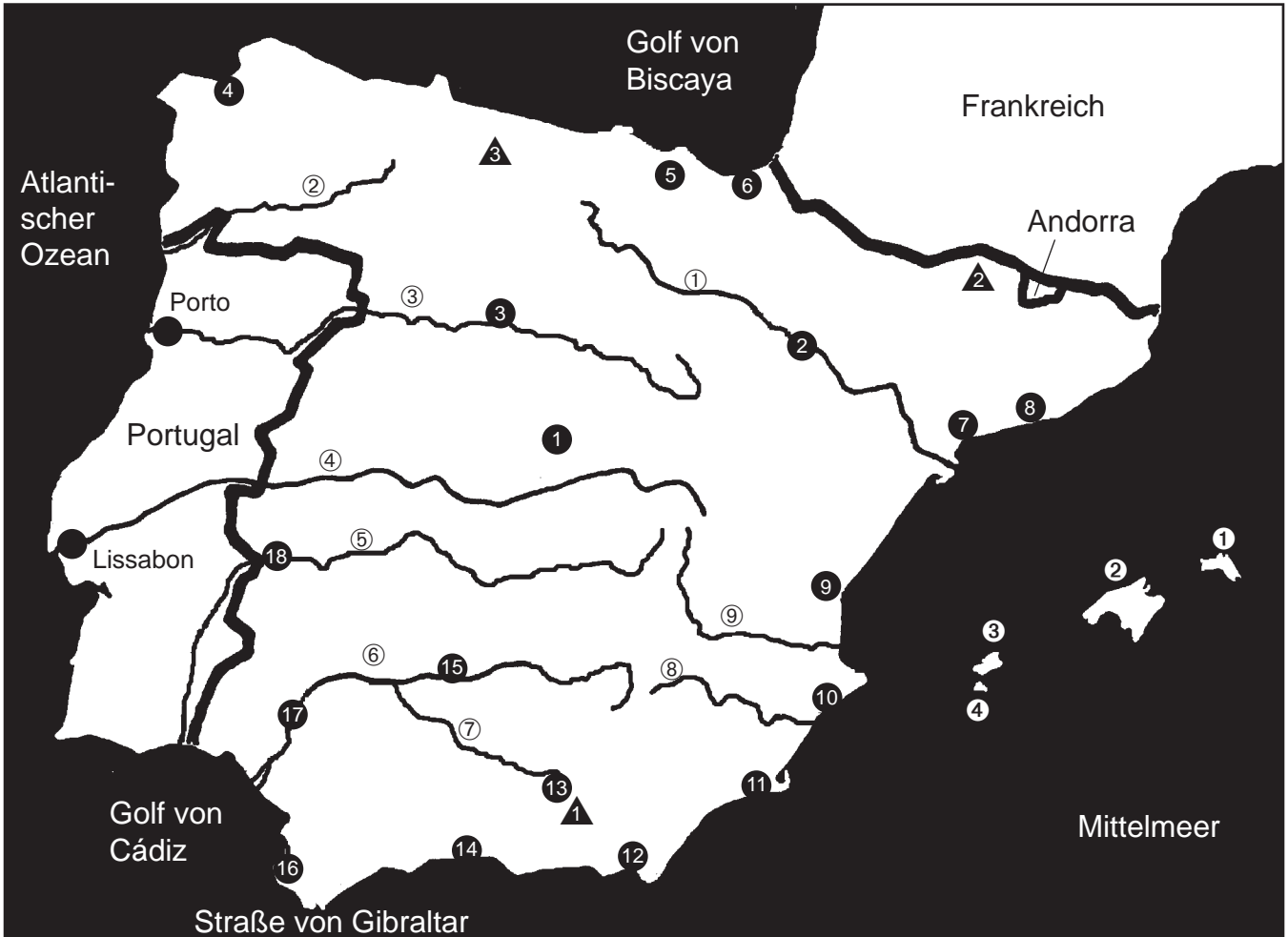


Geografie

Name: _____

Datum: _____

Europa: Spanien



Städte

- 1 Madrid
- 2 _____
- 3 _____
- 4 _____
- 5 _____
- 6 _____
- 7 _____
- 8 _____
- 9 _____
- 10 _____
- 11 _____
- 12 _____
- 13 _____
- 14 _____
- 15 _____
- 16 _____
- 17 _____
- 18 _____

Berge



- ▲ 1 _____
- ▲ 2 _____
- ▲ 3 _____

Flüsse

- ① _____
- ② _____
- ③ _____
- ④ _____
- ⑤ _____
- ⑥ _____
- ⑦ _____
- ⑧ _____
- ⑨ _____

Inseln

- ① _____
- ② _____
- ③ _____
- ④ _____

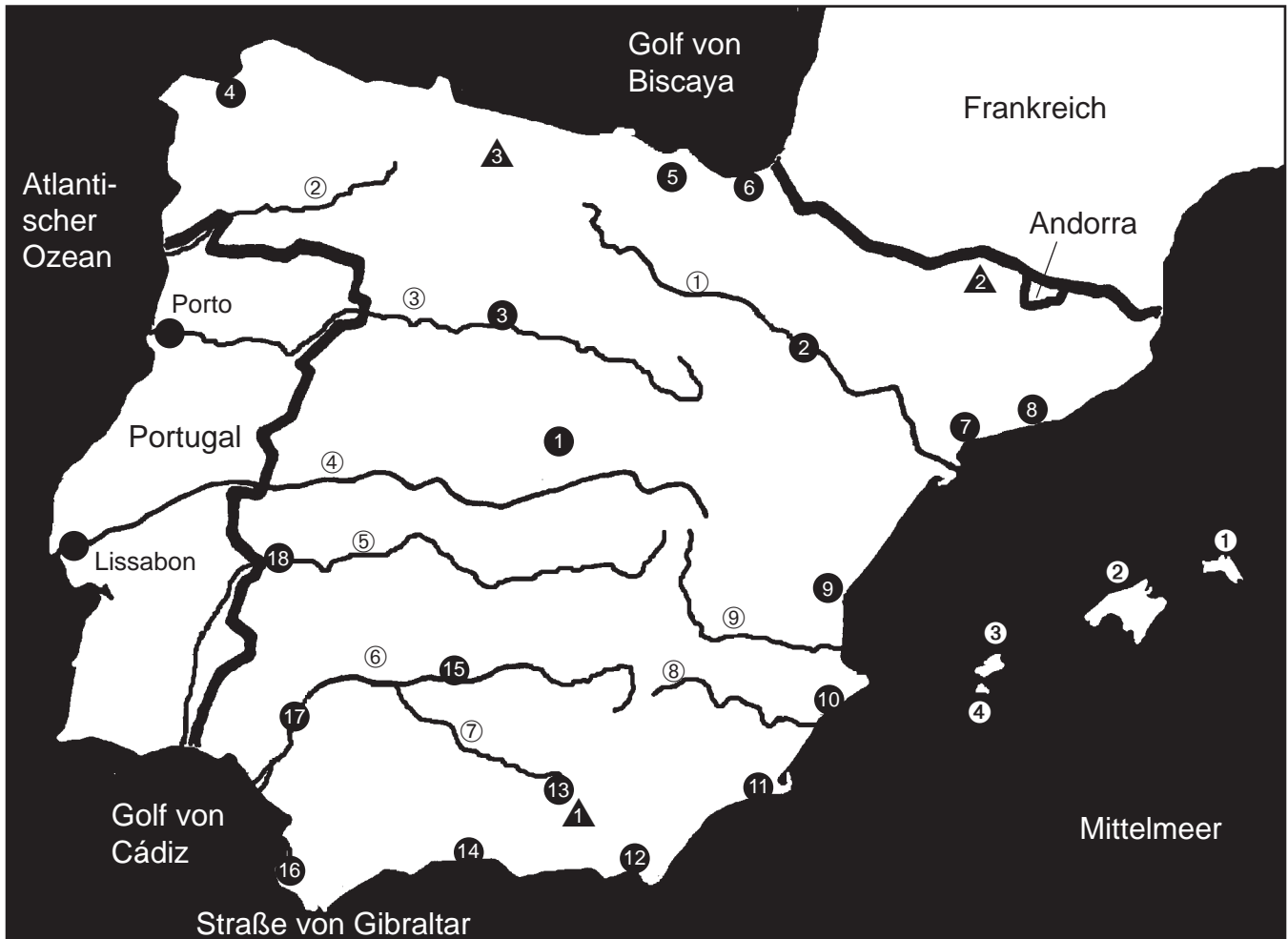


Geografie

Name:

Datum:

Europa: Spanien



Städte

- 1 Madrid
- 2 Zaragoza
- 3 Valladolid
- 4 La Coruña
- 5 Santander
- 6 San Sebastián
- 7 Tarragona
- 8 Barcelona
- 9 Valencia
- 10 Alicante
- 11 Cartagena
- 12 Almería
- 13 Granada
- 14 Málaga
- 15 Córdoba
- 16 Cádiz
- 17 Sevilla
- 18 Badajoz

Berge



- ▲ 1 Pico de Aneto (3404)
- ▲ 2 Mulhacén (3481)
- ▲ 3 Pico de Europa (2648)

Flüsse

- ① Ebro
- ② Sil
- ③ Douro
- ④ Tejo
- ⑤ Guadajana
- ⑥ Guadalquivir
- ⑦ Genil
- ⑧ Segura
- ⑨ Júcar

Inseln

- ① Menorca
- ② Mallorca
- ③ Ibiza
- ④ Formentera

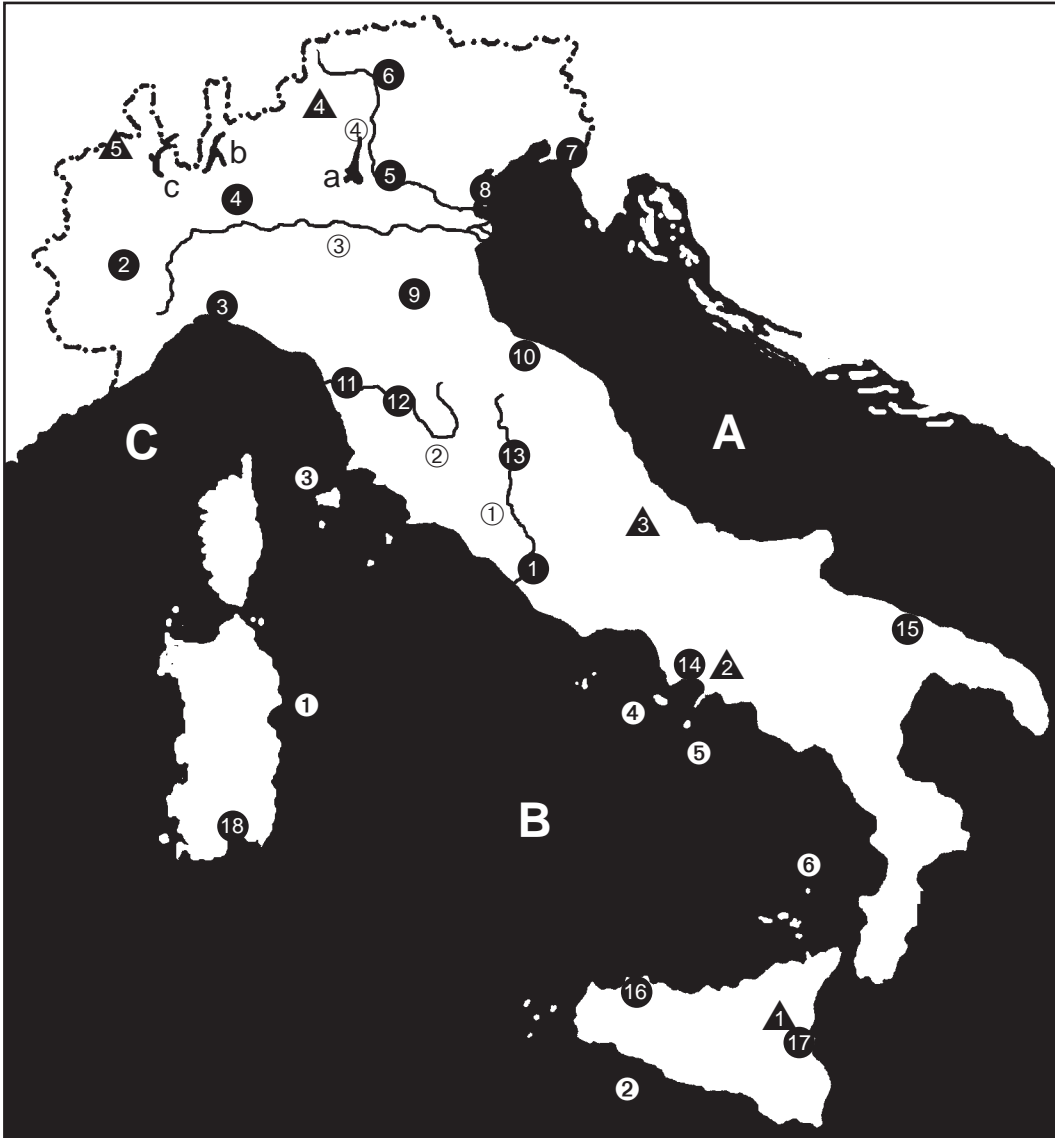


Geografie

Name: _____

Datum: _____

Europa: Italien



Städte

- 1 _____
- 2 _____
- 3 _____
- 4 _____
- 5 _____
- 6 _____
- 7 _____
- 8 _____
- 9 _____
- 10 _____
- 11 _____
- 12 _____
- 13 _____
- 14 _____

15 _____

16 _____

17 _____

18 _____

Inseln

- ① _____
- ② _____
- ③ _____
- ④ _____
- ⑤ _____
- ⑥ _____

Meere

- A _____
- B _____
- C _____

Flüsse

- ① _____
- ② _____
- ③ _____
- ④ _____

Seen

- a _____
- b _____
- c _____

Berge

- ▲1 _____
- ▲2 _____
- ▲3 _____
- ▲4 _____
- ▲5 _____

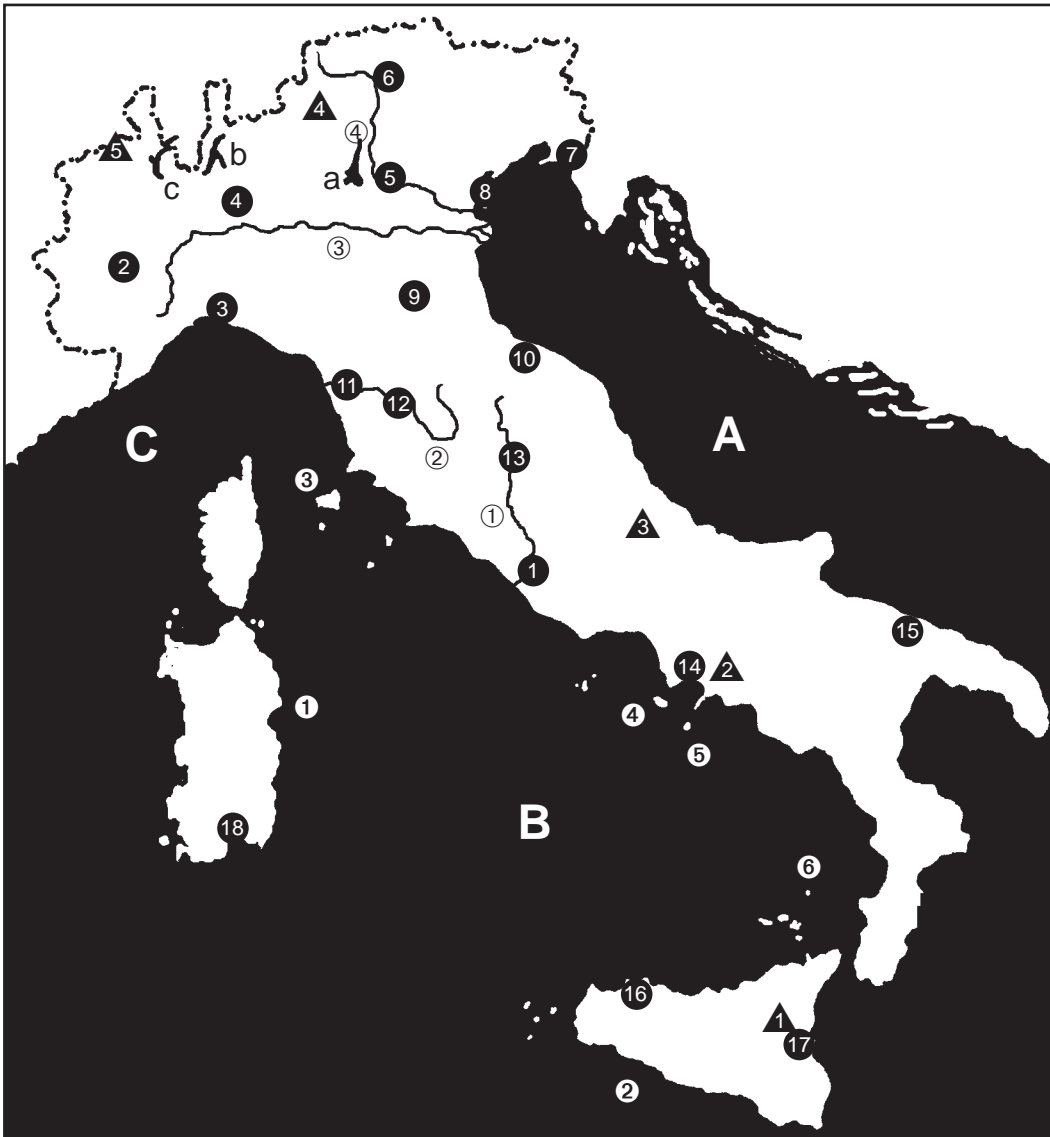


Geografie

Name:

Datum:

Europa: Italien



Städte

- 1 Rom
 2 Turin
 3 Genua
 4 Mailand
 5 Verona
 6 Bozen
 7 Triest
 8 Venedig
 9 Bologna
 10 Rimini
 11 Pisa
 12 Florenz
 13 Perugia
 14 Neapel

15 Bari

- 16 Palermo
 17 Catania
 18 Cagliari

Inseln

- ① Sardinien
 ② Sizilien
 ③ Elba
 ④ Ischia
 ⑤ Capri
 ⑥ Stromboli

Meere

- A Adriatisches Meer
 B Tyrrhenisches Meer
 C Ligurisches Meer

Flüsse

- ① Tiber
 ② Arno
 ③ Po
 ④ Adige (Etsch)

Seen

- a Gardasee
 b Comer See
 c Lago Maggiore

Berge

- ▲① Ätna (3350)
 ▲② Vesuv (1277)
 ▲③ Gran Sasso (2914)
 ▲④ Ortler (3899)
 ▲⑤ Monte Rosa (4634)



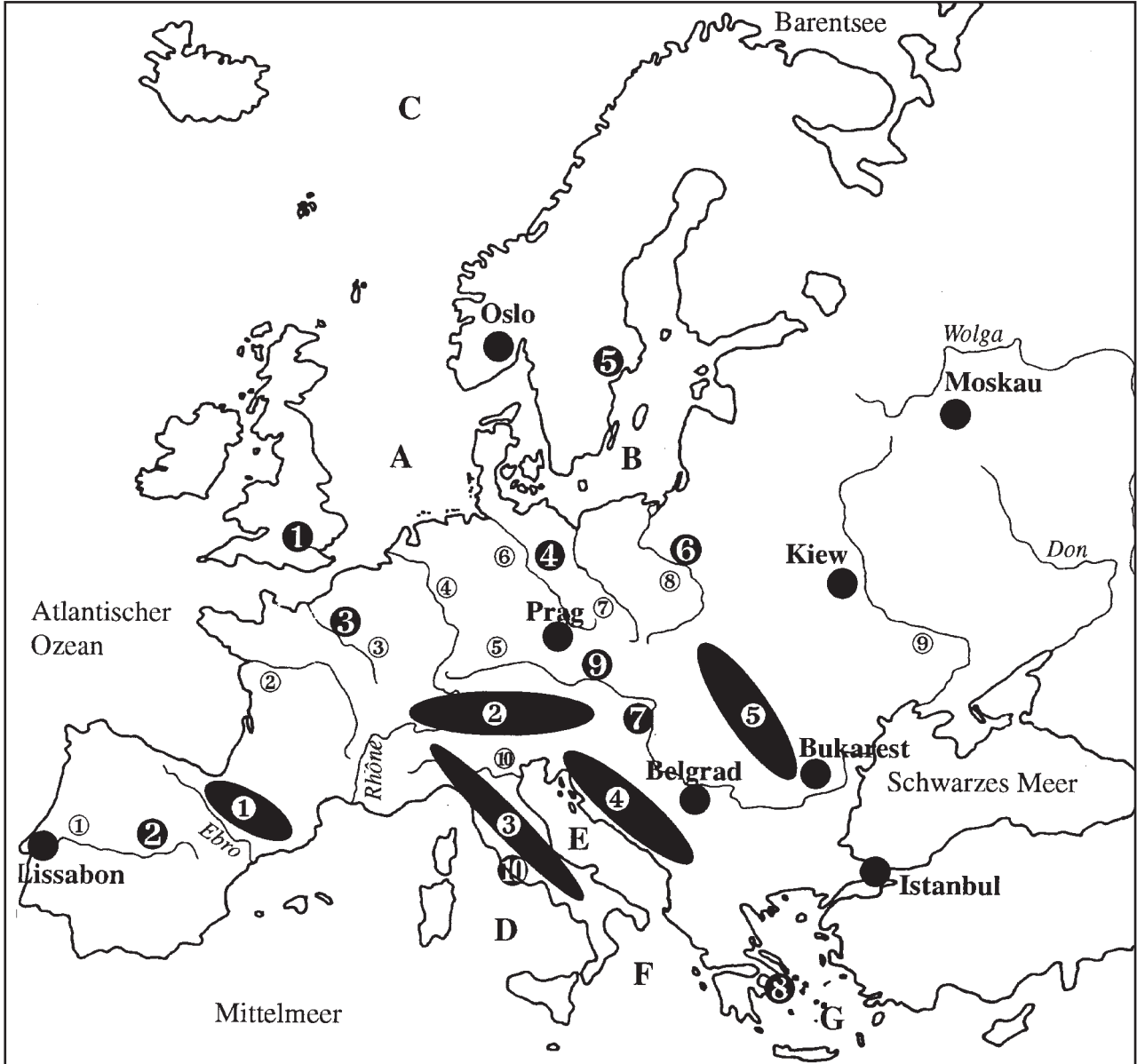
Geografie

Name:

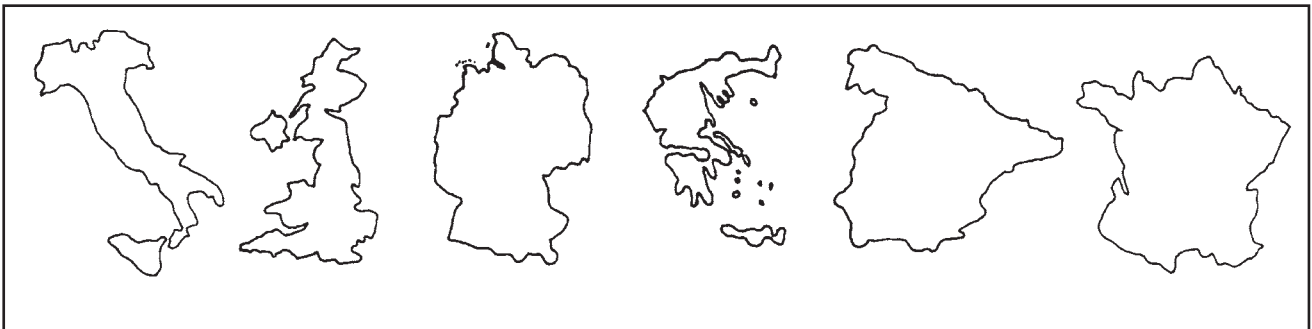
Datum:

Europa-Quiz: Was weißt du noch? (1)

❶ In der Karte unten findest du 10 Städte, 10 Flüsse, 7 Meere und 5 Gebirge mit Nummern bzw. Buchstaben eingezeichnet. Trage die Lösungen in die Karte ein. (10+10+7+5)



❷ Welche europäischen Länder sind in Umrissen dargestellt? Schreibe in die Zeichnung. (6)



❸ Wie heißen der längste Fluss und der höchste Berg Europas? (2)



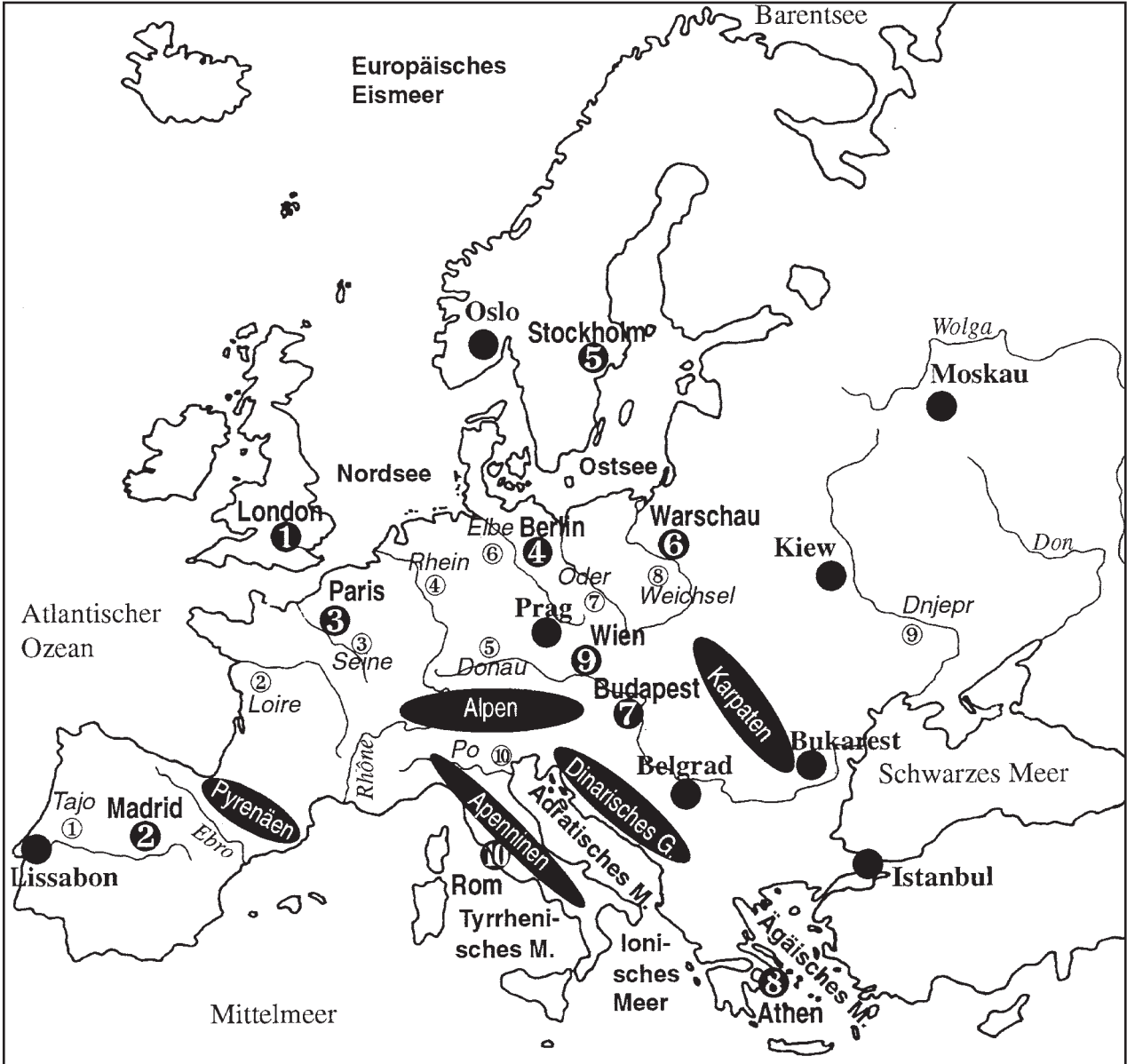
Geografie

Name:

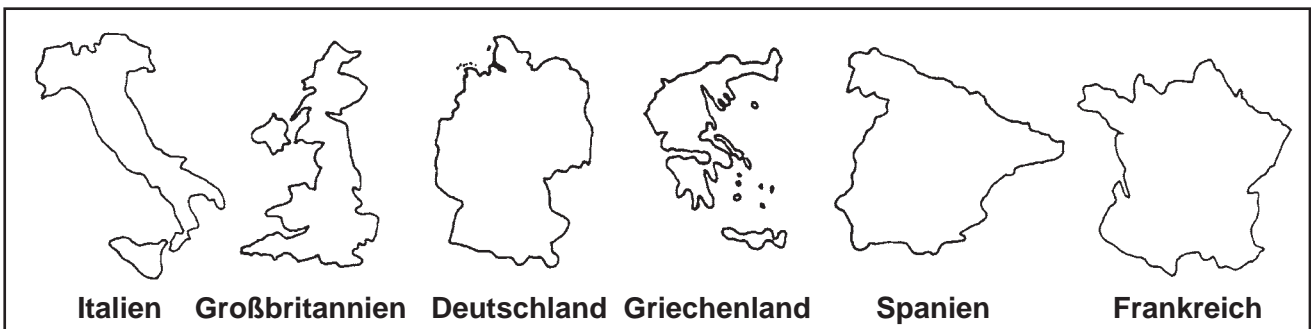
Datum:

Europa-Quiz: Was weißt du noch? (1)

❶ In der Karte unten findest du 10 Städte, 10 Flüsse, 7 Meere und 5 Gebirge mit Nummern bzw. Buchstaben eingezeichnet. Trage die Lösungen in die Karte ein. (10+10+7+5)



❷ Welche europäischen Länder sind in Umrissen dargestellt? Schreibe in die Zeichnung. (6)



❸ Wie heißen der längste Fluss und der höchste Berg Europas? (2)

Wolga (3531 km), Mont Blanc (4807 m)



Geografie

Name:


Datum:

Europa-Quiz: Was weißt du noch? (2)

❶ In der Karte unten findest du - als Ziffern angegeben - 10 Staaten und - als Kreise dargestellt - 10 Hauptstädte. Trage die Lösungen in die Karte ein. (10+10)



❷ Welche 10 Sehenswürdigkeiten aus europäischen Ländern sind unten in Bildern dargestellt? Gib auch die Orte an, in welchen diese Sehenswürdigkeiten stehen. (10+10)



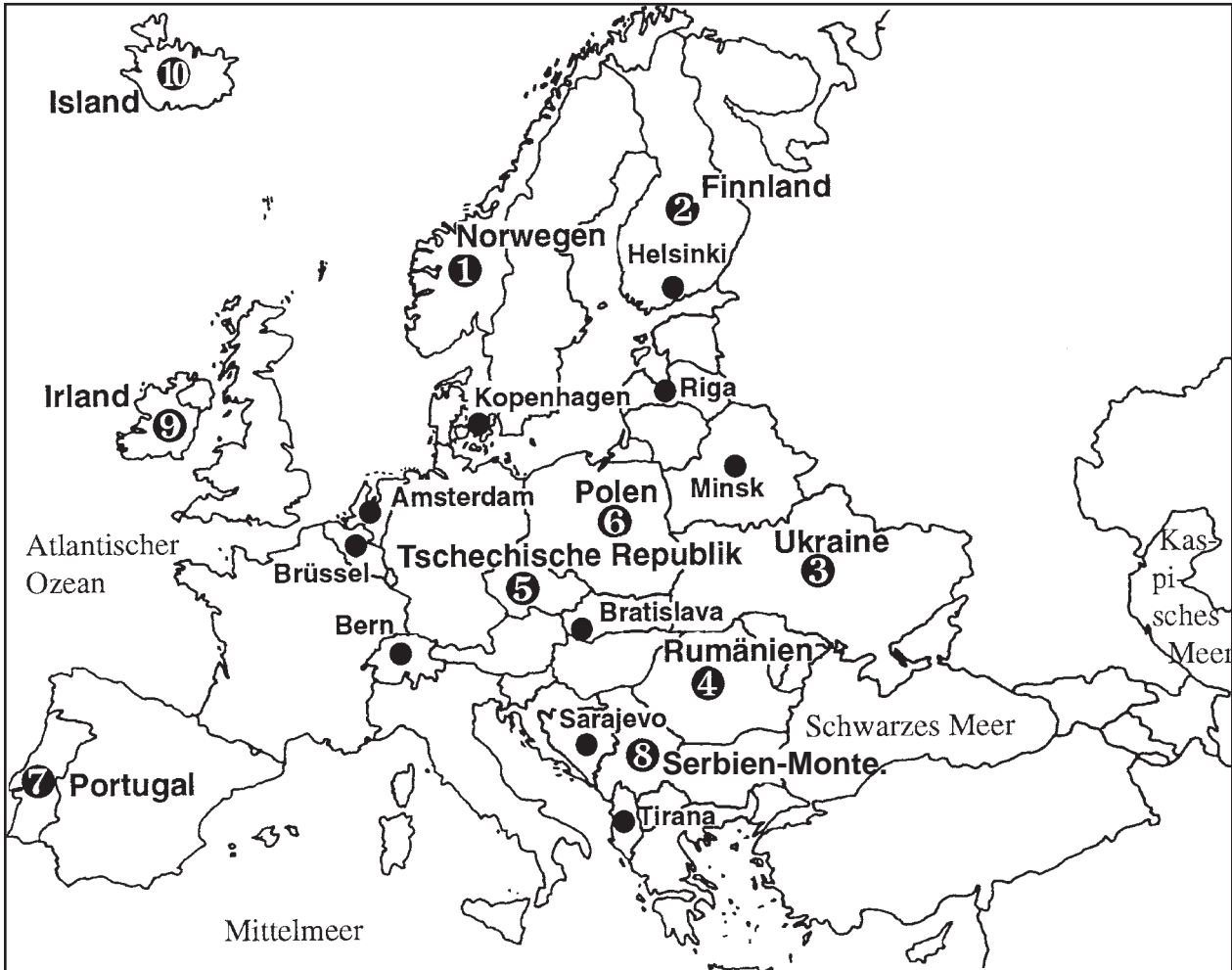
Geografie

Name:

Datum:

Europa-Quiz: Was weißt du noch? (2)

❶ In der Karte unten findest du - als Ziffern angegeben - 10 Staaten und - als Kreise dargestellt - 10 Hauptstädte. Trage die Lösungen in die Karte ein. (10+10)



❷ Welche 10 Sehenswürdigkeiten aus europäischen Ländern sind unten in Bildern dargestellt? Gib auch die Orte an, in welchen diese Sehenswürdigkeiten stehen. (10+10)



Eiffelturm
Paris




Campanile
Venedig




La Sagrada Familia Kath.
Barcelona



Riesenrad
Wien



Basilikus-Kath.
Moskau



Notre-Dame
Paris



Tower Bridge
London



Atomium
Brüssel



Akropolis
Athen



Alhambra
Granada

